

**Демонстрационный вариант
История
7 класс**

Часть А

Задания 1–10. Выберите единственный верный ответ.

1.1. Десятинная церковь была заложена в Киеве

- 1) Святославом
- 2) Владимиром Мономахом
- 3) Владимиром I
- 4) Ярославом Мудрым

2.1. В 1136 г. в результате восстания республиканское правление установилось в

- 1) Галиче
- 2) Киеве
- 3) Новгороде
- 4) Чернигове

3.1. Сборщики монгольской дани на Руси назывались

- 1) баскаки
- 2) ключники
- 3) нойоны
- 4) тиуны

4.1. Первым русским государем, официально принявшим титул царя, был

- 1) Иван III
- 2) Иван IV
- 3) Михаил Федорович
- 4) Петр I

5.1. «Семибоярщина» связана с событиями

- 1) Опричнины
- 2) Смутного времени
- 3) регентства царевны Софьи
- 4) Ливонской войны

6.1. Участие России в Семилетней войне приходится на

- 1) 1558–1583 гг.
- 2) 1700–1721 гг.
- 3) 1757–1762 гг.
- 4) 1804–1807 гг.

7.1. Петербургская Академия наук была учреждена

- 1) Александром I
- 2) Екатериной II
- 3) Елизаветой Петровной
- 4) Петром I

8.1. Декабристом был

- 1) Ф.Ф. Вигель

- 2) М.С. Лунин
- 3) Д.П. Рунич
- 4) И.С. Тургенев

9.1. Первая железная дорога была открыта в России в

- 1) 1837 г.
- 2) 1844 г.
- 3) 1851 г.
- 4) 1859 г.

10.1. Какое из перечисленных печатных изданий НЕ было связано с деятельностью славянофилов?

- 1) «Москвитянин»
- 2) «Отечественные записки»
- 3) «Русская беседа»
- 4) «Русь»

Задания 11–15. Выберите все верные ответы из списка.

11.1. Памятниками архитектуры Новгородской земли являются

- 1) Десятинная церковь
- 2) Софийский собор
- 3) Дмитриевский собор
- 4) церковь Федора Стратилата
- 5) Юрьев монастырь

12.1. К литературным произведениям XI–XVII вв. относятся

- 1) «Слово о законе и благодати»
- 2) «О повреждении нравов в России»
- 3) «Хождение за три моря»
- 4) «Книга о скудности и богатстве»
- 5) «Задонщина»

13.1. Во Втором ополчении участвовали

- 1) В. Шуйский
- 2) Г. Отрепьев
- 3) И. Заруцкий
- 4) Д. Трубецкой
- 5) К. Минин

14.1. В правление Петра I были созданы

- 1) Боярская дума
- 2) Сенат
- 3) Синод
- 4) Челобитный приказ
- 5) Тайная канцелярия

15.1. Екатериной II были изданы

- 1) Жалованная грамота дворянству
- 2) Учреждения для управления губерний
- 3) Генеральный регламент
- 4) Манифест о вольности дворянства
- 5) Жалованная грамота городам

Часть Б

Задания 16–19. Упорядочьте события (явления, объекты, имена) по указанному в задании принципу. Ответ запишите в виде последовательности цифр (2431, 1243 и т.п.)

16.1. Расположите эпизоды татаро-монгольского нашествия в хронологическом порядке. Ответ запишите в виде последовательности цифр (2431, 1243 и т.п.)

- 1 – битва на Сити
- 2 – взятие татарами Киева
- 3 – взятие татарами Рязани
- 4 – осада татарами Козельска

17.1. Расположите имена московских князей в хронологическом порядке. Ответ запишите в виде последовательности цифр (2431, 1243 и т.п.)

- 1 – Даниил
- 2 – Иван III
- 3 – Дмитрий Донской
- 4 – Василий I

18.1. Расположите имена российских монархов XVIII в. в хронологическом порядке. Ответ запишите в виде последовательности цифр (2431, 1243 и т.п.)

- 1 – Анна Иоанновна
- 2 – Екатерина I
- 3 – Иван Антонович
- 4 – Петр II

19.1. Расположите события эпохи наполеоновских войн в хронологическом порядке. Ответ запишите в виде последовательности цифр (2431, 1243 и т.п.)

- 1 – «Битва народов» под Лейпцигом
- 2 – Битва под Аустерлицем
- 3 – Бородинская битва
- 4 – Тильзитский мирный договор




Задания 20–24. Установите соответствия. Запишите ответ в виде последовательности цифр и соответствующих им букв (без пробелов и каких-либо символов). Например: 1А2Б3В4Г.

20.1. Соотнесите восточнославянские племена и расположенные в их землях города.

Запишите ответ в виде последовательности цифр и соответствующих им букв (без пробелов и каких-либо символов). Например: 1А2Б3В4Г.

- | | |
|-------------|----------------|
| 1) древляне | А) Искоростень |
| 2) кривичи | Б) Киев |
| 3) поляне | В) Муром |
| 4) словене | Г) Новгород |
| | Д) Смоленск |

21.1. Соотнесите памятник архитектуры и название. Запишите ответ в виде последовательности цифр и соответствующих им букв (без пробелов и каких-либо символов). Например: 1А2Б3В4Г.



- А) Грановитая палата
- Б) Успенский собор Кремля
- В) Архангельский собор Кремля
- Г) Церковь Спаса Преображения на Ильине улице
- Д) Церковь Преображения в Коломенском

22.1. Соотнесите имена московских князей и присоединенные к московскому княжеству территории. Запишите ответ в виде последовательности цифр и соответствующих им букв (без пробелов и каких-либо символов). Например: 1А2Б3В4Г.

- | | |
|----------------|---------------------|
| 1) Иван Калита | А) Нижний Новгород |
| 2) Василий I | Б) Галич |
| 3) Иван III | В) Можайск |
| 4) Василий III | Г) Рязань |
| | Д) Великий Новгород |

23.1. Соотнесите событие и дату. Запишите ответ в виде последовательности цифр и соответствующих им букв (без пробелов и каких-либо символов). Например: 1А2Б3В4Г.

- | | |
|---|--------------|
| 1) Указ об урочных летах | А) 1597 |
| 2) Образование первого ополчения | Б) 1607-1608 |
| 3) Восстание под предводительством И.И. Болотникова | В) 1598 |
| 4) Избрание на царство царя Бориса Годунова | Г) 1606-1607 |
| | Д) 1611 |

24.1. Соотнесите здание и архитектора. Запишите ответ в виде последовательности цифр и соответствующих им букв (без пробелов и каких-либо символов). Например: 1А2Б3В4Г.



- А) О.И. Бове
- Б) А.Н. Воронихин
- В) А.Д. Захаров
- Г) О. Монферран
- Д) К.И. Росси

Задание 25. Впишите необходимое слово (слова) в именительном падеже.

25.1. Впишите необходимое слово (слова) в именительном падеже.

Крупнейший памятник российского законодательства XVII в., принятый в 1649 г., назывался «_____».

Ответы

№ п/п	Ответ
1.1.	3
2.1.	3
3.1.	1
4.1.	2
5.1.	2
6.1.	3
7.1.	4
8.1.	2
9.1.	1
10.1.	2
11.1.	45
12.1.	135
13.1.	45
14.1.	23
15.1.	125
16.1.	3142
17.1.	1342
18.1.	2413
19.1.	2431
20.1.	1А2ДЗБ4Г
21.1.	1Б2В3А4Г
22.1.	1Б2А3Д4Г
23.1.	1А2ДЗБ4В
24.1.	1В2ДЗА4Б
25.1.	Соборное уложение