

## Демоверсия по востоковедению 10 класс

### 1. Задача 1

Под управлением какого государства находится архипелаг Дяюйдао принадлежность которого оспаривается КНР, Китайской республикой и Японией?

1	<input type="radio"/>	Южная Корея
2	<input checked="" type="radio"/>	Япония
3	<input type="radio"/>	Вьетнам
4	<input type="radio"/>	КНР

### 2. Задача 2

По религиозному исповеданию большинство населения Омана (около 75 %) относится к:

1	<input type="radio"/>	исмаилитам
2	<input type="radio"/>	шиитам
3	<input type="radio"/>	суннитам
4	<input checked="" type="radio"/>	ибадитам

### 3. Задача 3

В каких из перечисленных пограничных конфликтов КНР XX в. НЕ ПРИНИМАЛ участие Советский союз?

1	<input type="radio"/>	у озера Жаланашколь 1969 г.
2	<input type="radio"/>	на о-ве Даманский 1969 г.
3	<input checked="" type="radio"/>	в р-не перевала Натула 1967 г.
4	<input type="radio"/>	у Бойтак-Богдо 1947-1948 г.

### 4. Задача 4

Военное противостояние с какой династией Китая привело к распаду древнекорейской державы Кочосон?

1	<input type="radio"/>	Синь
2	<input type="radio"/>	Вэй
3	<input type="radio"/>	Цинь
4	<input checked="" type="radio"/>	Хань

## 5. Задача 5

Какой род доминировал в политической истории древней Японии на протяжении VII-XII вв.?

1	<input type="radio"/>	Сога
2	<input checked="" type="radio"/>	Фудзивара
3	<input type="radio"/>	Тайра
4	<input type="radio"/>	Минамото

## 6. Задача 6

Какое из перечисленных восстаний имело антимоногольскую направленность, стало причиной падения династии Юань и установления правления китайской династии Мин в 1368 г.?

1	<input type="radio"/>	восстание ихэтуаней
2	<input checked="" type="radio"/>	восстание Красных повязок
3	<input type="radio"/>	восстание няньцзюней
4	<input type="radio"/>	восстание Жёлтых повязок

## 7. Задача 7

Какая битва ознаменовалась первой значимой победой христианских войск в противостоянии с арабскими завоевателями и послужила началом процесса Реконквисты Пиренейского полуострова?

1	<input checked="" type="radio"/>	битва при Гвадалете
2	<input type="radio"/>	битва при Пуатье
3	<input type="radio"/>	битва за Нарбонну

4	<input type="radio"/>	битва при Кавадонге
---	-----------------------	---------------------

## 8. Задача 8

Следствием какого события японской истории считается установление сёгуната Асикага (1336-1573 гг.)?

1	<input type="radio"/>	заговора элиты торгового сословия, недовольной своим положением
2	<input checked="" type="radio"/>	неудачной попытки реставрации императорской власти
3	<input type="radio"/>	борьбы за влияние аристократии и буддистского духовенства
4	<input type="radio"/>	восстания крестьянства, недовольного политикой сиккэнов Ходзё

## 9. Задача 9

Какое из перечисленных явлений принято считать важнейшим последствием маньчжуро-корейских войн 1627-1637 гг. и формального подчинения Кореи «варварскому» Китаю династии Цин (1644-1912 гг.)?

1	<input type="radio"/>	массовое бегство в Корею ученых и ремесленников из охваченного войной Китая
2	<input type="radio"/>	кратковременное сближение с Японией и создание антиманьчжурской коалиции
3	<input checked="" type="radio"/>	распространение идеи кореецентризма и концепции Кореи как «маленького Китая»
4	<input type="radio"/>	переход страны к длительной политике полной самоизоляции от внешнего мира

## 10. Задача 10

Какое событие послужило поводом для начала «Войны на истощение» 1967-1970 гг. между Египтом и Израилем?

1	<input checked="" type="radio"/>	Атака египетского ракетного катера на эсминец израильского флота «Эйлат», приведшая к гибели 47 человек
2	<input type="radio"/>	Подготовленный втайне, в том числе от союзников, удар ВВС Израиля по всем аэродромам Египта
3	<input type="radio"/>	Переход египетскими войсками Суэцкого канала и создание укрепленной линии обороны на территории Синайского п-ова
4	<input type="radio"/>	Отказ Израиля поддержать принятую по итогам Шестидневной войны резолюцию 242 Совета Безопасности ООН

## 11. Задача 11

Одной из причин спада экономического роста в Южной Корее в конце 1970-х – начале 1980-х гг. принято считать:

1	<input type="radio"/>	сокращение финансовых вложений США в связи с окончанием Корейской войны
2	<input checked="" type="radio"/>	рост цен на сырье и энергоресурсы из-за мирового нефтяного кризиса
3	<input type="radio"/>	рост конкуренции со стороны Северной Кореи, поддерживаемой Китаем и СССР
4	<input type="radio"/>	Осложнение отношений с основными экспортными партнерами в Восточной Азии

## 12. Задача 12

Одной из основных причин расширения и укрепления экономических связей Японии и стран Западной Европы в 1970-е гг. принято считать:

1	<input type="radio"/>	обострение политических противоречий между СССР и Японией
2	<input type="radio"/>	стремление США ослабить давление японских товаров на свой внутренний рынок
3	<input type="radio"/>	рост экспорта менее качественных товаров из новых индустриальных стран Азии
4	<input checked="" type="radio"/>	повышение цен на товары Европы и США в результате нефтяного кризиса 1973 г.

## 13. Задача 13


К какому направлению в изобразительном искусстве Японии относится иллюстрация к роману «Повесть о принце Гэндзи» работы Тоса Мицуоки (1617-1691), представленная на изображении?



1	<input checked="" type="radio"/>	Ямато-Э
2	<input type="radio"/>	Тоба-Э
3	<input type="radio"/>	Укиё-Э
4	<input type="radio"/>	Нисэ-Э

## 14. Задача 14

Какое исламское культовое сооружение, являющееся одним из ранних памятников мусульманской архитектуры, представлено на изображении?



1	<input type="radio"/>	Мечеть Пророка
2	<input type="radio"/>	Голубая мечеть
3	<input type="radio"/>	Мечеть Аль-Акса
4	<input checked="" type="radio"/>	Мечеть Купол скалы

## 15. Задача 15

Какой тип жилой постройки, встречающийся в архитектуре Китая, представлен на изображении?



1	<input type="radio"/>	Дялоу
2	<input type="radio"/>	Фанза
3	<input checked="" type="radio"/>	Тулоу
4	<input type="radio"/>	Пайлоу

## 16. Задача 16

Какой сюжет священного придания мусульман запечатлен на миниатюре из персидской книги «Джами ат-таварих» («Сборник летописей») XIV в., созданной Рашид ад-Дином, визирем Газан-хана, правителя монгольского государства Хулагуидов?



1	<input checked="" type="radio"/>	ночное путешествие Мухаммеда из Мекки в Иерусалим
2	<input type="radio"/>	передача Мухаммеду ангелом Джебрайлом сур Корана
3	<input type="radio"/>	вознесение пророка Мухаммеда в рай после смерти
4	<input type="radio"/>	участие Мухаммеда в «Кошунственной войне»

## 17. Задача 17

Какие из перечисленных западных государств участвовали в подписании пяти неравноправных договоров «о дружбе и торговле» с Японией в 1858 г.?

1	<input checked="" type="checkbox"/>	Голландия
2	<input type="checkbox"/>	Португалия
3	<input type="checkbox"/>	Австрия
4	<input checked="" type="checkbox"/>	США
5	<input type="checkbox"/>	Германия

## 18. Задача 18

После капитуляции Мухаммада Али перед европейскими державами в 1841 г. ему в наследственное владение были оставлены:

1	<input type="checkbox"/>	Палестина
2	<input checked="" type="checkbox"/>	Судан
3	<input type="checkbox"/>	Оман
4	<input checked="" type="checkbox"/>	Египет
5	<input type="checkbox"/>	Ливан

## 19. Задача 19

Какие из перечисленных военных операций относятся к первому этапу Корейской войны (25 июня – 15 сентября 1950 г.)?

1	<input type="checkbox"/>	Инчхонская операция
2	<input type="checkbox"/>	Сувонская операция
3	<input type="checkbox"/>	Унсанская операция
4	<input checked="" type="checkbox"/>	Нактонганская операция
5	<input checked="" type="checkbox"/>	Пусанская операция



## 20. Задач 20]

Какие четыре основных принципа, составляющие ядро идеологической политики КНР, «надо твердо и недвусмысленно отстаивать» согласно выступлению Дэн Сяопина перед руководством ЦК КПК по вопросу студенческих волнений 30 декабря 1986 г.?

1	<input type="checkbox"/>	верность политическому курсу Мао Цзэдуна
2	<input type="checkbox"/>	западное – прикладное, китайское - основное
3	<input checked="" type="checkbox"/>	демократическая диктатура народа
4	<input type="checkbox"/>	идеи китайского национализма
5	<input checked="" type="checkbox"/>	следование социалистическому пути развития

## 21. Задача 21

Какие из перечисленных ученых Арабского Востока известны наибольшим вкладом в развитие астрономии и математики?

1	<input type="checkbox"/>	Аль-Бируни
2	<input type="checkbox"/>	Аль-Хорезми
3	<input checked="" type="checkbox"/>	Аль-Баттани
4	<input type="checkbox"/>	Аль-Фараби
5	<input type="checkbox"/>	Аль-Джахиз

## 22. Задача 22

Кто из перечисленных исторических деятелей возглавлял Временное правительство Кореи в изгнании в период Японской оккупации страны?

1	<input checked="" type="checkbox"/>	Ли Сын Ман
2	<input type="checkbox"/>	Чо Ман Сик
3	<input checked="" type="checkbox"/>	Ким Гу
4	<input type="checkbox"/>	Пак Чон Хи
5	<input type="checkbox"/>	Цой Ен Ген

## 23. Задача 23

Установите правильную последовательность событий в истории Китая. При установлении последовательности цифре 1 должен соответствовать хронологически самый ранний вариант ответа, а цифре 5 – самый поздний.


Перенос Чжу Юаньчжаном столицы в Нанкин	<input type="text"/>
Суд над «бандой четырех» во главе с Цзян Цин	<input type="text"/>
Провозглашение Ван Маном правления династии Синь	<input type="text"/>
Подписание договора в Симонисэки	<input type="text"/>
Завершение составления кодекса «Тан люй шу и»	<input type="text"/>

Возможные ответы

1	1
2	2
3	3
4	4
5	5

## 24. Задача 24

Установите правильную последовательность создания архитектурных сооружений Японии, представленных на фотографиях. При установлении последовательности цифре 1 должен соответствовать хронологически самый ранний вариант ответа, а цифре 5 – самый поздний.

	<input type="text"/>
---	----------------------





Возможные ответы

1	1
2	2
3	3
4	4
5	5

## 25. Задача 25

Соотнесите имена средневековых ближневосточных правителей и названия государств, которыми они правили.

1	<input type="text"/>	Салах ад-Дин
2	<input type="text"/>	Умар ибн аль-Хаттаб
3	<input type="text"/>	Абд ар-Рахман I
4	<input type="text"/>	Мехмед Эль-Фатих

Возможные ответы

1	Османский султанат
2	Праведный халифат
3	Айюбидский султанат
4	Кордовский эмират

## 26. Задача 26

Соотнесите названия международных договоров и краткую характеристику их условий и положений.

1	<input type="text"/>	Передача Японии контроля над о-вом Тайвань
2	<input type="text"/>	Запрет употреблять слово «варвар» по отношению к британцам
3	<input type="text"/>	Проведение границы между Китаем и Россией по правому берегу Амура и Уссури.
4	<input type="text"/>	Запрет на ввоз опиума, торговлю женьшенем и экспорт риса США

Возможные ответы

1	Пекинский трактат 1860 г.
2	Тяньцзиньский трактат 1858 г.
3	Договор Шуфелдта 1882 г.
4	Симоносекский договор 1895 г.

## 27. Задача 27

Соотнесите термины, используемые для обозначения столпов ислама с их значением.




1	<input type="text"/>	обязательный к соблюдению тридцатидневный пост, в течение которого запрещается принимать пищу от восхода до заката солнца
2	<input type="text"/>	паломничество, связанное с посещением Мекки и её окрестностей, совершаемое в начале 12 месяца мусульманского календаря, которое должно быть хотя бы единожды совершено мусульманином
3	<input type="text"/>	ежедневная пятикратная молитва, состоящая из строго предписанной смены определенных молитвенных поз, сопровождаемой повторением молитвенных формул
4	<input type="text"/>	обязательный ежегодный налог, выплачиваемый на поддержание бедных и распространение веры, размер которого определяется в зависимости от размеров имущества и доходов плательщика


Возможные ответы

1	закят
2	салят
3	хадж

## 28. Задача 28

Соотнесите изображение произведений искусства и цивилизации Древнего Востока, которым они принадлежат.

1 <input type="text" value="Древняя Япония"/>	
2 <input type="text" value="Древний Шумер"/>	
3 <input type="text" value="Древний Египет"/>	



Возможные ответы

1	Древняя Индия
2	Древний Шумер
3	Древний Египет
4	Древняя Япония

## 29. Задача 29

Каким термином обозначается совокупность норм и представлений, составляющая основу системы иерархических отношений и ранжирования, регулирующая жизнь конфуцианского общества на всех уровнях социальной организации и выступающую в качестве важнейшего компонента ментальности народов Восточной Азии?

**Ответ:** Сяо

## 30. Задача 30

Какой полководец Японии, согласно легенде, обучался владению мечом у персонажей японского фольклора, одного из которых изображает представленная на снимке храмовая статуя?



**Ответ:** Куро Ёсицунэ

### **31. Задача 31**

Миф о рождении основателя какого исторического государства Кореи рассказан на представленном наборе марок Республики Корея?





**Ответ:** Кочосон

## 32. Задача 32

Какой термин раскрывает следующее определение:

Раннее государственное образование, сложившееся в пределах одной (реже нескольких) общин, имевшее свой политический и религиозный центр и примыкающие к нему сельскохозяйственные и промысловые угодья, поддерживавшее работоспособность ирригационных сооружений в своих границах

**Ответ:** НОМ

### 33. Задача 33

О каком направлении ислама говорит Абуль-Фатх аш-Шахрастани в приведенном фрагменте «Книги о религиях и сектах»?

«<...> - это собственно те, кто был приверженцем 'Али – да будет доволен им Аллах! Явно или тайно они признавали его имамат и его халифат как божественное указание и завещание. Они убеждены, что имамат не выходит за пределы его потомства, но если он вышел, то либо вследствие несправедливости со стороны кого-либо другого, либо вследствие предосторожности с его стороны. Они говорили: «Имамат – не обычное дело, вверенное воле народа, когда имам назначается по его выбору, нет, это - основополагающее дело, это - основа мусульманской религии. Посланники – мир им! – не должны ни пренебрегать этим и оставлять это без внимания, ни вверять и передавать это народу».

**Ответ:** Шииты

### 34. Задача 34

Против какого европейского государства вел успешные походы арабский правитель, образ которого описывает в приведённом фрагменте «Истории» Гийом Тирский (1130-1186)?

«<...>Этот принц носил имя Аарон <...> Это был муж очень учтивый, милосердный, сильный, видный и этичный, что до сих пор мусульмане говорят о нём так же, как французы о Карле Великом. Кроме того, [Аарона] и Карл Великий жили в одно и то же время. <...>. [Аарон] был большой радостью для Христиан, он был очень уважаем Калом Великим и принцами запада, а также очень уважаем Христианами, находившимися под властью Карла Великого. Он приказал, чтобы все святые места, находящиеся под его властью, были постоянно поддержаны, сохранены и хорошо украшены, как просил о том Карл Великий. Карл Великий после этого послал ему своё слово, в [послании] он высказался о том, что нашим людям, находящимся под его властью, живётся так же хорошо, как Христианам, находящимся под властью Карла Великого. Когда же [Аарона] встретил посланцев Карла Великого, он наградил их всеми сокровищами Востока – шёлковыми одеждами, специями, многими изящными дорогими украшениями и многими богатыми драгоценными камнями, которые он посла своему другу Карлу Великому и собственноручно наградил послов. И, среди многих других вещей, он послал во Францию слона!»

**Ответ:** Ромейская империя

### 35. Задача

В каком государстве возникает социальная корпорация, о которой повествует приведенный ниже фрагмент текста «Самгук Саги»:

Так как раньше государь и его слуги страдали из-за незнания людей, решено было собирать [молодых] людей для совместных развлечений, чтобы можно было наблюдать за их поведением и затем соответственно отбирать их для использования [на государственной службе]. <...> [государство] снова стало отбирать мальчиков с красивой внешностью, наряжать и содержать <...>. Во множестве собиралась молодежь, чтобы толковать о смысле веры, развлекаться пением и музыкой или совершать увеселительные прогулки по горам и рекам, и не было [поэтому] отдаленных мест, где бы они не побывали. Таким образом узнавали и пороки и достоинства этих людей, чтобы лучших из них отобрать и представить правительству, поэтому <...> говорится: «Отсюда вышли мудрые министры и преданные слуги [вана], и из них выдвинулись прекрасные полководцы и смелые воины», <...> Войдя в дом, они (ученики<...>) отличались [примерной] сыновней почтительностью, а выйдя [в свет] — примером преданности государству, так, как учил луский сыгу (т. е. Конфуций)»

**Ответ:** Силла

## 36. Задача 36

Идеологические основы какой революции в истории Китая отражает приведённая цитата из программного документа?

«... Наша революция поставила цель, во-первых, отомстить за наших предков, во-вторых, сделать все для того, чтобы не пресекся род ханьцев. <...> Однако у маньчжуров, занимающих трон <...> еще имеются большие силы. Невозможно добиться успеха [в революции], если не объединить хуйданы всей страны. Поэтому мы советуем всем нашим хуйданам не отдаляться один от другого, не называть один хуйдан — матоу, другой — шаньтан, не считать одни — высшими, а другие — средними и низшими, ибо в таком случае мы сами отделяемся друг от друга, сами нарушаем наше единство, стало быть, сами губим себя. Следует понять: все мы — ханьцы, все мы — потомки императора Сюань-юаня, все 400 миллионов китайцев являются соотечественниками, составляющими одну великую семью. <...> как же нам не объединиться, чтобы, действуя единомышленно, вернуть себе Китай? <...> Еще обращаем ваше внимание на одно важное обстоятельство: мы должны подняться на революцию, но ни в коем случае не разрушать церкви и не убивать иностранцев. Правда, иностранцы пришли к нам в Китай не с добрыми намерениями, но если мы уничтожим маньчжуров и наведем в Китае порядок, то и иностранцы не посмеют наносить нам оскорбления. Иностранцы вполне могут послать свои войска на помощь маньчжурам».

**Ответ:** Синьхайской революции