

<i>Заполняется членами жюри. Пометки участников не допускаются!</i>					
ШИФР	Часть 1 (тест)	Часть 2 (соотнесение)	Часть 3 (работа с источниками)	Часть 4 (эссе)	Итого баллов
	Мах 16	Мах 24	Мах 20	Мах 40	Мах 100

**ВОСТОКОВЕДЕНИЕ**

**11 класс**

**Вариант 2**

**Время выполнения заданий – 120 минут**

**Максимальная оценка – 100 баллов**

**Часть I. (16 баллов)**

**Задания 1.1 – 1.8 (1 балл за вопрос)**

**Выберите из предложенных вариантов ответа единственно верный:**

1.1. Какие минералы не добывают в Китае?

1. Бирюза
2. Яшма
3. Алмазы
4. Сапфиры

1.2. Какая династия правила в Парфянской империи?

1. Аршакиды
2. Селевкиды
3. Сасаниды
4. Саффариды

1.3. Где находится самая высокая телебашня в мире?

1. Токио
2. Сеул
3. Шанхай
4. Москва

1.4. С каким из перечисленных государств не граничит Сирия?

1. Ливан
2. Израиль
3. Ирак
4. Иран

1.5. Кто изображен на фотографии?



1. Актер пьесы Твитпхури
2. Актер театра Но
3. Тибетский танцор
4. Актер театра Катхакали

1.6. Какое древнее государство возглавлял правитель Нэмуль?

1. Пэкче
2. Когурё
3. Бохай
4. Силла

1.7. Сколько в Республике Корея городов особого статуса?

1. 1
2. 2
3. 3
4. 4

1.8. К какому религиозному направлению относятся следующие постулаты:

- Не создавать письменных наставлений
- Передавать истину иным способом, вне учения
- Напрямую указывать суть сознания человека?

1. Чань-буддизм
2. Индуизм
3. Даосизм
4. Суфизм

Задания 1.9 – 1.12 (2 балла за вопрос)

Из предложенных вариантов выберите ДВА верных ответа на каждый из вопросов:

1.9. В каких странах НЕ распространен барабан *дарбука*?



1. Египет
2. Китай
3. Алжир
4. Турция
5. Индонезия

1.10. Назовите города, население которых не превышает 16 млн человек.

1. Пекин
2. Тяньцзинь
3. Шанхай
4. Гуанчжоу
5. Чунцин

1.11. Назовите страны, в которых нет ресторана «Макдональдс»:

1. Индонезия
2. Сирия
3. Катар
4. Иран
5. КНДР
6. Япония

1.12. Что из перечисленного достигло расцвета в эпоху Муромати?

1. Искусство чайной церемонии
2. Поэзия *хайку*
3. Повести *моногатари*
4. Искусство японского сада
5. Живопись школы Кано

Часть II. (24 балла)

Задания 2.1. – 2.4. (6 баллов за вопрос)

Соотнесите данные буквенной и цифровой частей каждого задания. Ответ запишите в виде последовательности цифр и соответствующих им букв (без пробелов и каких-либо символов) в специальной форме внизу вопроса. Например:

1	А	2	Б	3	В	4	Г
---	---	---	---	---	---	---	---

2.1. Соотнесите государства с их столицами:

1	Ливия	А	Сана
2	Иордания	Б	Амман
3	ОАЭ	В	Триполи
4	Йемен	Г	Абу-Даби

--	--	--	--	--	--	--	--

2.2. Соотнесите произведение классической литературы Японии и иллюстрацию:

1	«Собрание стародавних повестей»	А	
---	---------------------------------	---	--

2	«Записки от скуки» Кэнко-хоси	Б		
3	«Повесть о принце Гэндзи» Мурасаки Сикибу	В		
4	«Записки у изголовья» Сэй Сэнагон	Г		

--	--	--	--	--	--	--	--

2.3. Соотнесите японского писателя и школу (направление):




1	Натурализм	А	Мори Огай
2	Романтизм	Б	Акутагава Рюноскэ
3	Неореализм	В	Сига Наоя
4	Неогуманизм	Г	Симадзаки Тосон

--	--	--	--	--	--	--	--

2.4. К керамике каких стран относятся вазы на изображениях?

1	Япония	А	
---	--------	---	--



2	Египет	Б		
3	Китай	В		
4	Корея	Г		

--	--	--	--	--	--	--	--

Часть III. (20 баллов)

Задания 2.5 – 2.8 (5 баллов за вопрос)

Работа с различными типами источников.

2.5. Прочитайте текст. В какой стране и когда (предположительно) он был написан?

*Мудрые правители древности умели собирать дары земли во все времена года. Они повелели, чтобы пять му земли отводились под приусадебный участок, а половину из них занимал полевой домик. На время пахоты и сева переселись в полевой домик, чтобы было удобнее надзирать за работами и доставлять нужные орудия работникам. Тогда же займись посадкой овощей. Вдоль стен можно посадить тутовые деревья для выращивания шелкопряда. Так можно завести усадьбу в соответствии с правилами древних мудрецов.*

Ответ: \_\_\_\_\_  
\_\_\_\_\_  
\_\_\_\_\_

2.6. Прочитайте отрывок. Из какого известного памятника он взят?

*Участь сынов человеческих и участь животных – участь одна: как те умирают, так умирают и эти, и одно дыхание у всех, и нет у человека преимущества перед скотом, потому что всё – суeta! Все идет в одно место: все произошло из праха и все возвратится в прах. Кто знает: дух сынов человеческих восходит ли вверх, и дух животных сходит ли вниз, в землю?*

Ответ: \_\_\_\_\_  
\_\_\_\_\_  
\_\_\_\_\_

2.7. Кому принадлежат следующие строки?

*О небо, к подлецам щедра твоя рука:*

*Им — бани, мельницы и воды арыка;*


*А кто душою чист, тому лишь корка хлеба.*

*Такое небо — тьфу! — не стоит и плевка.*

Ответ: \_\_\_\_\_  
\_\_\_\_\_



2.8. Посмотрите на изображение. Опишите как можно точнее, что перед вами.



Ответ:

---



---



---



---

Часть IV. (40 баллов)

Выберите и выполните **ТОЛЬКО ОДИН** из блоков заданий данной Части:

**Блок 1. «Ближний Восток»**

Напишите краткое эссе **ПО ОДНОЙ** из предложенных тем:

1. Конфликты в Персидском заливе: современная ситуация
2. Вера в исламской философии
3. Египет как английская колония

**Блок 2. «Китай»**

Напишите краткое эссе **ПО ОДНОЙ** из предложенных тем:

1. Китайская экономика в связи с эпидемией коронавируса
2. Роль китайской письменности в странах Дальнего Востока
3. Легендарные династии Китая

**Блок 3. «Корея»**

Напишите краткое эссе **ПО ОДНОЙ** из предложенных тем:

1. Семейство Ким в современной истории КНДР
2. Корейские обряды и праздники
3. Христианство в истории и культуре Кореи

**Блок 4. «Япония»**

**Напишите краткое эссе ПО ОДНОЙ из предложенных тем:**

1. Древние письменные памятники Японии
2. «Мыльный пузырь» и «потерянное десятилетие» японской экономики
3. Эстетика ваби и саби в японской культуре

Эссе: Блок № \_\_\_\_\_ Тема № \_\_\_\_\_



