

Международная олимпиада молодежи – 2020

<i>Заполняется членами жюри. Пометки участников не допускаются!</i>					
ШИФР	Часть 1 (тест)	Часть 2 (соотнесение)	Часть 3 (работа с источниками)	Часть 4 (эссе)	Итого баллов
	Мах 16	Мах 24	Мах 20	Мах 40	Мах 100

ВОСТОКОВЕДЕНИЕ

11 класс

Вариант 1

Время выполнения заданий – 120 минут

Максимальная оценка – 100 баллов

Часть I. (16 баллов)

Задания 1.1 – 1.8 (1 балл за вопрос)

Выберите из предложенных вариантов ответа единственно верный:

1.1. Какая из японских префектур не имеет выхода к морю:

1. Фукуока
2. Хоккайдо
3. Нара
4. Токио

1.2. В результате Апрельской революции 1960 г. в Корее был:

1. Свергнут режим Ли Сын Мана
2. Убит Пак Чонхи
3. Корея получила независимость от Японии
4. Была принята конституция Юсин

1.3. Первым президентом Египетской республики после революции 1952 г. стал:

1. Гамаль Абдель Насер
2. Мохаммед Нагиб
3. Анвар Садат
4. Хосни Мубарак

1.4. На фотографии изображено представление японского традиционного театра:



1. Нингё дзёрури
2. Но
3. Кабуки
4. Бунраку

1.5. Крайняя западная точка Азии, мыс Баба, расположен в:

1. Сирии
2. Турции
3. Египте
4. Ливане

1.6. Какое произведение повествует о противостоянии Пандавов и Кауравов:

1. Рамаяна
2. Махабхарата
3. Атхарваведа
4. Бхагаватгита

1.7. Фрагмент валюты какого государства изображен на фотографии:



1. КНР
2. Тайвань
3. Республика Корея
4. КНДР

1.8. Больше всего азербайджанцев проживает в:

1. Азербайджане

2. Иране
3. Турции
4. Грузии

Задания 1.9 – 1.12 (2 балла за вопрос)

Из предложенных вариантов выберите ДВА верных ответа на каждый из вопросов:

1.9. Какие явления и события НЕ относятся к эпохе Мэйдзи в Японии:

1. Появление концернов *дзайбацу*
2. Политика внешней изоляции
3. Введение титулов знатности
4. «Открытие» Японии М.Пэрри
5. Создание первых университетов

1.10. Что из перечисленного относится к «трем учениям» (сань цзяо):

1. Буддизм
2. Легизм
3. Даосизм
4. Моизм
5. Христианство

1.11. Какая из стран НЕ располагает крупными разрабатываемыми месторождениями урана:

1. Иран
2. Казахстан
3. Китай
4. Узбекистан
5. Вьетнам

1.12. Кто из перечисленных НЕ являлся премьер-министром Индии:

1. Джавахарлал Неру
2. Морарджи Десаи
3. Индира Ганди
4. Соня Ганди
5. Валлабхай Патель

Часть II. (24 балла)

Задания 2.1. – 2.4. (6 баллов за вопрос)

Соотнесите данные буквенной и цифровой частей каждого задания. Ответ запишите в виде последовательности цифр и соответствующих им букв (без пробелов и каких-либо символов) в специальной форме внизу вопроса. Например:

1	А	2	Б	3	В	4	Г
---	---	---	---	---	---	---	---

Международная олимпиада молодежи – 2020

2.1. Соотнесите название провинции Китая с ее административным центром:

1	Шэньси	А	Нанкин
2	Гуандун	Б	Сиань
3	Цзянсу	В	Харбин
4	Хэйлунцзян	Г	Гуанчжоу

Ответ:

--	--	--	--	--	--	--	--



2.2. Расположите в верном хронологическом порядке династии, правившие во Вьетнаме:



- А. Нгуен
- Б. Династия поздних Ли
- В. Династия Поздних Ле
- Г. Тэйшон

Ответ:

--	--	--	--

2.3. Соотнесите изображение традиционного жилища и страну, где оно распространено:

1		А	Корея
2		Б	Китай

3		В	Япония
4		Г	Вьетнам

Ответ:

<input type="text"/>	<input type="text"/>	<input type="text"/>	<input type="text"/>	<input type="text"/>	<input type="text"/>	<input type="text"/>	<input type="text"/>
----------------------	----------------------	----------------------	----------------------	----------------------	----------------------	----------------------	----------------------

2.4. Соотнесите войну и мирный договор, заключенный по ее итогам:

1	Первая Японо-китайская война	А	Нанкинский договор
2	Русско-японская война	Б	Симоносэжский договор
3	Первая Опиумная война	В	Пекинский договор
4	Вторая Опиумная война	Г	Портсмутский договор

Ответ:

<input type="text"/>	<input type="text"/>	<input type="text"/>	<input type="text"/>	<input type="text"/>	<input type="text"/>	<input type="text"/>	<input type="text"/>
----------------------	----------------------	----------------------	----------------------	----------------------	----------------------	----------------------	----------------------

Часть III. (20 баллов)

Задания 3.1 – 3.4 (5 баллов за вопрос)

Работа с различными типами источников

3.1. Какую высшую государственную должность занимал человек, изображенный на фото:



Ответ: _____

3.2. Назовите современное государство, на территории которого располагается данный памятник архитектуры:



Ответ: _____

3.3. Отрывок из преамбулы к какому известному памятнику приведен ниже:

Мудрый царь, послушный слуга Шамаша, сильный, укрепивший основание Сиппара, одевший зеленью могилы Аи, возвеличивший Баббар подобно небесному жилищу, воитель, помиловавший Ларсу, возобновивший Баббар для Шамаша, своего помощника, владыка, давший жизнь Эреху, в изобилии снабдивший водою его жителей, возвысивший Э-Анна, изливший богатство на Ану и Иннанну, защитник страны, собравший воедино рассеянных жителей Исина, изливший богатство на Э-Галмах.

Полновластный царь царей, брат бога Замамы, укрепивший жилища города Киш, окруживший блеском Э-Метегуту, сделавший прочными великие святилища Иннанны, заботящийся об Э-Харсагалам, твердыне против врагов, тот, чьи желания исполнил Нергал, его соучастник, укрепивший город Кута, снабдивший всем Э-Мишлам, сильный телец, ниспровергающий врагов, любимец Туту, возвеселивший Борсиппу, высокий, непрестанно пекущийся о Э-Зида.

Ответ: _____

3.4. О какой стране повествует Марко Поло в данном отрывке?

Остров Чилунгу на востоке, в открытом море; до него от материка тысяча пятьсот миль.

Остров очень велик: жители белы, красивы и учтивы; они идолопоклонники, независимы, никому не подчиняются. Золота, скажу вам, у них великое обилие: чрезвычайно много его тут, и не вывозят его отсюда: с материка ни купцы, да и никто не приходит сюда, оттого-то золота у них, как я вам говорил, очень много.

Опишу вам теперь диковинный дворец здешнего царя. Сказать по правде, дворец здесь большой и крыт чистым золотом, так же точно, как у нас свинцом крыты дома и церкви. Стоит это дорого -- и не счесть! Полы в покоях, а их тут много, покрыты также чистым золотом, пальца два в толщину; и все во дворце, и залы, и окна покрыты золотыми украшениями.

Дворец этот, скажу вам, безмерное богатство, и диво будет, если кто скажет, чего он стоит!

Жемчугу тут обилие; он розовый и очень красив, круглый, крупный; дорог он так же, как и белый. Есть у них и другие драгоценные камни. Богатый остров, и не перечесть его богатства.

Когда великому хану Кублаю [Хубилаю], что теперь царствует, порассказали об этих богатствах, из-за них захотел он завладеть этим островом. Послал он сюда двух князей со множеством судов, с конным и пешим войском. Одного князя звали Абатан, а другого Вонсаничин, были они и разумны, и храбры. Что же вам сказать?

Вышли они из Зайтона и Кинся [Цюаньчжоу и Ханчжоу], пустились в море, доплыли до острова и высадились на берег. Захватили они много равнин да деревень, а городов и замков не успели еще взять, как случилось с ними вот какое несчастье; зависть была промеж них, и один другому не хотел помогать; подул раз сильный ветер с севера, и стала тут говорить рать, что следует уходить, не то все суда разобьются; сели на суда и вышли в море; не проплыли и четырех миль, как прибило их к небольшому острову; кто успел высадиться, спасся, а другие погибли тут же.

Высадилось на остров около тридцати тысяч человек, да и те думали, что погибли, и очень тосковали; сами уйти не могут, а уцелевшие суда уходят на родину. Иплыли те суда до тех пор, пока не вернулись к себе.

Ответ: _____

Часть IV. (40 баллов)

Выберите и выполните **ТОЛЬКО ОДИН** из блоков заданий данной Части:

Блок 1. «Ближний Восток»

Напишите краткое эссе **ПО ОДНОЙ** из предложенных тем:

1. Шиизм как идеологическая основа народных движений в прошлом и настоящем
2. Арабская средневековая поэзия: основные жанры и эстетические принципы
3. Причины кризиса «светских» режимов в государствах Ближнего Востока

Блок 2. «Китай»

Напишите краткое эссе **ПО ОДНОЙ** из предложенных тем:

Международная олимпиада молодежи – 2020

1. Легизм и конфуцианство: общие черты и различия
2. Проблема цикличности китайской истории
3. Инициатива «Один пояс один путь»

Блок 3. «Корея»

Напишите краткое эссе ПО ОДНОЙ из предложенных тем:

1. Социально-экономические преобразования в КНДР на современном этапе
2. Процесс демократизации в Республике Корея во второй половине XX в.
3. Корейская традиционная архитектура: основные черты и известные памятники

Блок 4. «Япония»

Напишите краткое эссе ПО ОДНОЙ из предложенных тем:

1. Основные жанры японской традиционной поэзии
2. Причины и следствия изменения миграционной политики Японии на современном этапе
3. Проблема заключения мирного договора между Японией и Российской Федерацией

Эссе: Блок № _____ Тема № _____

