

<i>Заполняется членами жюри. Пометки участников не допускаются!</i>					
ШИФР	Часть 1 (тест)	Часть 2 (соотнесение)	Часть 3 (работа с источниками)	Часть 4 (эссе)	Итого баллов
	Мах 16	Мах 24	Мах 20	Мах 40	Мах 100

ВОСТОКОВЕДЕНИЕ

11 класс

Вариант 2

**Время выполнения заданий – 120 минут
Максимальная оценка – 100 баллов**

Часть I. (16 баллов)

Задания 1.1 – 1.8 (1 балл за вопрос)

Выберите из предложенных вариантов ответа единственно верный:

1.1. Какая из китайских провинций не имеет выхода к морю:

1. Гуандун
2. Фуцзянь
3. Шандун
4. Сычуань

1.2. 26 октября 1979 г. в Корею был:

1. Свергнут режим Ли Сын Мана
2. Убит Пак Чонхи
3. Корея получила независимость от Японии
4. Была принята конституция Юсин

1.3. Национализацию Суэцкого канала в 1956 г. произвел:

1. Мохаммед Нагиб
2. Гамаль Абдель Насер
3. Анвар Садат
4. Фарук I

1.4. На фотографии изображено представление японского традиционного театра:



1. Нингё дзёрури
2. Но
3. Кабуки
4. Бунраку

1.5. Крайняя южная точка Азии, мыс Пиай, расположена в:

1. Малайзии
2. Индии
3. Сингапуре
4. Таиланде

1.6. Хануман, популярное в Индии божество, является также одним из главных персонажей:

1. Рамаяны
2. Махабхараты
3. Атхарваведы
4. Бхагаватгиты

1.7. Фрагмент валюты какого государства изображен на фотографии:



1. КНР
2. Тайвань
3. Республика Корея
4. КНДР

Международная олимпиада молодежи – 2020

1.8. Наибольшее количество современных последователей зороастризма проживает в:

1. Иране
2. Индии
3. Пакистане
4. Азербайджане

Задания 1.9 – 1.12 (2 балла за вопрос)

Из предложенных вариантов выберите ДВА верных ответа на каждый из вопросов:

1.9. Какие явления и события НЕ относятся к эпохе Токугава в Японии:

1. Появление первых европейцев
2. Политика внешней изоляции
3. Появление первых бумажных денег
4. «Открытие» Японии М.Пэрри
5. Создание первых университетов

1.10. Что из перечисленного НЕ относится к «пяти злакам» (у гу):

1. ячмень
2. просо
3. рожь
4. пшеница
5. киноа

1.11. Какие из перечисленных стран ведут активную добычу золота:

1. Китай
2. Япония
3. Индонезия
4. Вьетнам
5. Камбоджа

1.12. Кто из перечисленных деятелей НЕ занимал должность председателя КНР:

1. Хуа Гофэн
2. Цзян Цзэминь
3. Ху Цзиньтао
4. Ян Шанкунь
5. Чжоу Эньлай

Часть II. (24 балла)

Задания 2.1. – 2.4. (6 баллов за вопрос)

Соотнесите данные буквенной и цифровой частей каждого задания. Ответ запишите в виде последовательности цифр и соответствующих им букв (без пробелов и каких-либо символов) в специальной форме внизу вопроса. Например:

1	А	2	Б	3	В	4	Г
---	---	---	---	---	---	---	---

Международная олимпиада молодежи – 2020

2.1. Соотнесите название японского острова и крупнейшего города, который на нем расположен:

1	Хонсю	А	Саппоро
2	Хоккайдо	Б	Мацуяма
3	Кюсю	В	Токио
4	Сикоку	Г	Фукуока

Ответ:

--	--	--	--	--	--	--	--



2.2. Расположите в верном хронологическом порядке династии, правившие Ираном:

- А. Сефевиды
- Б. Сасаниды
- В. Ахемениды
- Г. Селевкиды

Ответ:

--	--	--	--

2.3. Соотнесите изображение блюд традиционной кухни и страну:

1		А	Япония
2		Б	Корея

Международная олимпиада молодежи – 2020

3		В	Вьетнам
4		Г	Китай

Ответ:

--	--	--	--	--	--	--	--

2.4. Соотнесите название восстания и империю, в которой оно происходило:

1	Восстание красных повязок	А	Цин
2	Восстание тайпинов	Б	Хань
3	Восстание желтых повязок	В	Юань
4	Восстание красnobровых	Г	Синь

Ответ:


--	--	--	--	--	--	--	--

Часть III. (20 баллов)

Задания 3.1 – 3.4 (5 баллов за вопрос)

Работа с различными типами источников

3.1. Какую высшую государственную должность занимал человек, изображенный на фото:



Ответ: _____

3.2. Назовите современное государство, на территории которого располагался данный памятник древней архитектуры:



Ответ: _____

3.3. Отрывок из какого памятника приведен ниже?

Мой отец - Вишаспа, отец Вишаспы Аршама, отец Аршамы - Ариарамна, отец Ариарамны - Чишиши, отец Чишишиа - Ахемен. Поэтому мы называемся Ахеменидами. Искони мы пользуемся почетом, искони наш род был царственным. Восемь [человек] из моего рода были до меня царями. Я - девятый. Девять нас были последовательно царями. По воле Ахурамазды я - царь. Ахурамазда дал мне царство.

Следующие страны мне достались, по воле Ахурамазды я стал над ними царем: Персия, Элам, Вавилония, Ассирия, Аравия, Египет, [страны у моря], Лидия, Иония, Мидия, Армения, Каппадокия, Парфия, Дрангиана, Арейя, Хорезм, Бактрия, Согдиана, Гайдара, Сака, Саттагидии, Арахозия, Мака: всего 23 страны.

Эти страны мне достались. По воле Ахурамазды [они] стали мне подвластны, приносили мне дань. Все, что я им приказывал, - ночью ли, днем ли - они исполняли. В этих странах [каждого] человека, который был лучшим, я ублажал, [каждого] кто был враждебен, я строго наказывал. По воле Ахурамазды эти страны следовали моим законам. [Все], что я им приказывал, они исполняли. Ахурамазда дал мне это царство.

Ахурамазда помог мне, чтобы я овладел этим царством. По воле Ахурамазды этим царством я владею

Ответ: _____

3.4. Какой остров описывает Марко Поло?

Через тысячу пятьсот миль на юг и юго-восток от Чианбы [Чамбо] остров (...). Так рассказывают сведущие мореходы, а они это знают. То самый большой на свете остров, в округе более трех тысяч миль; владеет им большой царь; живут здесь идолопоклонники и никому в свете дани не платят. Остров очень велик.

Водятся у них и перец, и мускатные орехи, и пряности, калган, кубеба, гвоздика и всякие, какие только есть в свете, дорогие пряности. Приходят сюда много судов и купцов, закупают тут товары и наживаются. Богатства здесь столько, что никому в свете ни счесть, ни описать его. Великий хан острова не мог захватить оттого, что путь сюда далек, да и плавание опасно. Большие богатства вывезли отсюда купцы Зайтона [Цюаньчжоу] и Манги и все еще вывозят золото.

Ответ: _____

Часть IV. (40 баллов)

Выберите и выполните ТОЛЬКО ОДИН из блоков заданий данной Части:

Блок 1. «Ближний Восток»

Напишите краткое эссе ПО ОДНОЙ из предложенных тем:

1. Исламская революция в Иране: ход событий и значение
2. Эстетические принципы арабской каллиграфии
3. Курдское национальное движение: истоки и роль в ближневосточной политике

Блок 2. «Китай»

Напишите краткое эссе ПО ОДНОЙ из предложенных тем:

1. Неоконфуцианство: формирование и основные философские категории
2. Проблема технологического прогресса и стагнации в китайской истории
3. Значение внесения поправки 2018 г. в конституцию КНР

Блок 3. «Корея»

Напишите краткое эссе ПО ОДНОЙ из предложенных тем:

1. Корейская война: истоки конфликта и его значение
2. Традиционные истоки современной корейской системы образования
3. Основные виды корейской традиционной керамики

Блок 4. «Япония»

Напишите краткое эссе ПО ОДНОЙ из предложенных тем:

1. Японская гравюра эпохи Токугава
2. Конституция Японии: основные особенности, история принятия и перспективы изменения
3. Территориальные споры Японии с соседними государствами

Международная олимпиада молодежи – 2020

Эссе: Блок № _____ Тема № _____

