



**Высшая
проба**
ВСЕРОССИЙСКАЯ
ОЛИМПИАДА ШКОЛЬНИКОВ

ДЕМОНСТРАЦИОННЫЙ ВАРИАНТ ОТБОРОЧНОГО ЭТАПА

Всероссийской олимпиады школьников «Высшая проба»
по профилю «География» для 9 класса

2023/2024 г.



ВЫСШАЯ ШКОЛА ЭКОНОМИКИ
НАЦИОНАЛЬНЫЙ ИССЛЕДОВАТЕЛЬСКИЙ УНИВЕРСИТЕТ

Вопрос **Инфо**

**Осознанно подходите к выполнению заданий.
В некоторых заданиях за выбор неправильных вариантов ответов предусмотрены штрафы.**

Вопрос 1

Балл: 2,00

Часть 1. Задание 1.1.

Выберите из приведенного списка ученого (**А – Г**), который сформулировал закон высотной поясности и горную систему на примере которой он охарактеризовал этот закон.

Учёные: **А)** В.В. Докучаев; **Б)** П.П. Семенов-Тянь-Шанский; **В)** А. Гумбольдт; **Г)** М.В. Ломоносов.

Горные системы: 1) Альпы; 2) Гималаи; 3) Анды; 4) Уральские горы; 5) Кавказские горы.

В ответе напишите букву и цифру (без пробелов и знаков препинания).

Ответ:

Правильный ответ: В3

Вопрос 2

Балл: 2,00

Часть 1. Задание 1.2.

Определите на каком континенте (**А-Г**) расположена точка с географическими координатами 51° ю.ш., 72° з.д. и выберите город (1-4), который является антиподом точки с этими координатами.

Континенты: **А)** Южная Америка; **Б)** Австралия; **В)** Африка; **Г)** Антарктида.

Города-антиподы: 1) Улан-Удэ; 2) Эдмонтон; 3) Оттава; 4) Улан-Батор.

В ответе напишите букву и цифру (без пробелов и знаков препинания).

Ответ:

Правильный ответ: А1

Вопрос 3

Балл: 2,00

Часть 1. Задание 1.3.

Установите последовательность перечисленных событий в истории географических открытий, начиная с самого раннего:

- А)** Покорение горы Джомолунгмы (Эверест) Э. Хиллари и Т. Норгеем;
- Б)** Открытие озера Эдуард и верховья реки Нил Г.М. Стэнли;
- В)** Завоевание Мексики под руководством Э. Кортеса;
- Г)** Открытие пролива между Азией и Америкой С.И. Дежневым.

В ответе укажите последовательность букв (без пробелов и знаков препинания).

Ответ:

Правильный ответ: ВГБА

Вопрос 4

Балл: 2,00

Часть 1. Задание 1.4.

Расположите перечисленные субъекты России по валовому региональному продукту (ВРП), начиная с наименьшего по данному показателю.

- А)** Санкт-Петербург;
- Б)** Республика Башкортостан;
- В)** Республика Ингушетия;
- Г)** Липецкая область.

В ответе укажите последовательность букв (без пробелов и знаков препинания).

Ответ:

Правильный ответ: ВГБА

Вопрос 5

Балл: 2,00

Часть 1. Задание 1.5.

Что объединяет перечисленные ниже географические объекты (варианты ответов А – Г) и у какого из них (1–6) географическое положение значительно отличается от других?

Объединяющий признак: **А)** Архипелаги; **Б)** Объекты Всемирного наследия ЮНЕСКО; **В)** Особо охраняемые природные территории; **Г)** Особая экономическая зона.

Географические объекты: 1) Охраняемая природная область Пантанал; 2) Национальный парк «Эверглейдс»; 3) Геоглифы пустыни Наска; 4) Липарские острова; 5) Мачу-Пикчу; 6) Национальный парк «Лос Гласиарес».

В ответе напишите букву и цифру (без пробелов и знаков препинания).

Ответ:

Правильный ответ: Б4

Вопрос 6

Балл: 2,00

Часть 1. Задание 1.6.

Среди географических объектов (А – Д) один не соответствует представленной логической подборке. Определите этот объект и найдите верное объяснение (1-5) того, что данный объект является «лишним».

Географические объекты: А) р. Амур; Б) р. Лена; В) р. Янцзы; Г) р. Юкон; Д) р. Зея

Объяснения: 1) Данная река расположена на втором по площади континенте планеты; 2) Данная река относится к бассейну Северного Ледовитого океана; 3) В отличие от других рек у этой реки преобладает дождевое питание; 4) Бассейн реки находится на территории двух государств; 5) Направление течения реки преимущественно в меридиональном направлении.

В ответе напишите букву и цифру (без пробелов и знаков препинания).

Ответ:

Правильный ответ: Б2

Вопрос 7

Балл: 2,00

Часть 1. Задание 1.7.

Среди географических терминов (А – Д) один не соответствует представленной логической подборке. Определите этот термин и найдите верное объяснение (1-5) того, что данный термин является «лишним».

Термины: А) карст; Б) спрединг; В) выветривание; Г) абразия; Д) эрозия.

Объяснения:

- 1) Термин не относится к науке геоморфология;
- 2) Этот термин относится к науке геология;
- 3) Данный термин относится к эндогенным процессам рельефообразования;
- 4) Данный термин относится к экзогенным процессам рельефообразования;
- 5) Вода является главной рельефообразующей силой в процессе, который носит данное название.

В ответе укажите последовательность букв (без пробелов и знаков препинания).

Ответ:

Правильный ответ: БЗ

Вопрос 8

Балл: 2,00

Часть 1. Задание 1.8.

Расположите перечисленные географические объекты по мере удаления от экватора.

А) г. Кения; **Б)** г. Эверест; **В)** о. Ява; **Г)** влк. Ключевская Сопка; **Д)** г. Кука.

В ответе укажите последовательность букв (без пробелов и знаков препинания).

Ответ:

Правильный ответ: АВБДГ

Вопрос 9

Балл: 2,00

Часть 1. Задание 1.9.

Установите верную последовательность в смене названий города Керчь, начиная с самого древнего.

А) Боспор; **Б)** Пантикапей; **В)** Корчев; **Г)** Керчь.

В ответе укажите последовательность букв (без пробелов и знаков препинания).

Ответ:

Правильный ответ: БАВГ

Вопрос 10

Балл: 2,00

Часть 1. Задание 1.10.

Определите географическую ошибку на рисунке «За полярным кругом» и выберите верный ответ для её исправления.



Ошибка:

- А) Полярные сияния можно наблюдать только в Арктике;
- Б) Белые медведи и пингвины не обитают за полярным кругом;
- В) Покровное оледенение характерно лишь для Антарктики;
- Г) Ареалы белого медведя и пингвинов не совпадают;
- Д) Пингвины не обитают в областях современного оледенения.

Исправление ошибки:

- 1) Заменить белого медведя на антарктический оазис;
- 2) Удалить изображение полярного сияния и заменить пингвинов моржами;
- 3) Заменить льды изображением арктической пустыни;
- 4) Добавить изображение антарктической станции «Восток»;
- 5) Удалить изображение полярного сияния и заменить медведя на изображение антарктической станции «Восток».

В ответе напишите букву и цифру (без пробелов и знаков препинания).

Ответ:

Правильный ответ: Г1

Вопрос II

Балл: 3,00

Часть 2. Задание 2.1.

Установите соответствия между путешественниками и городами, которые на момент жизни этого путешественника являлись столицей государства, чьи интересы он представлял.

М.П. Лазарев	<input type="text"/>
Ибн Баттута	<input type="text"/>
Р. Скотт	<input type="text"/>

Б. Диаш	
---------	--

Верный ответ:

Часть 2. Задание 2.1.

Установите соответствия между путешественниками и городами, которые на момент жизни этого путешественника являлись столицей государства, чьи интересы он представлял.




М.П. Лазарев	[Санкт-Петербург]
Ибн Баттута	[Фес]
Р. Скотт	[Лондон]
Б. Диаш	[Лиссабон]



Вопрос 12

Балл: 3,00

Часть 2. Задание 2.2.

Установите соответствия между географическими объектами, изображёнными на фотографиях, и видами характерных для них видами топонимов.

	<div style="border: 1px solid black; height: 20px; width: 100%;"></div>
	<div style="border: 1px solid black; height: 20px; width: 100%;"></div>

Верный ответ:

Часть 2. Задание 2.2.

Установите соответствия между географическими объектами, изображёнными на фотографиях, и видами характерных для них видами топонимов.

	<p>[дромоним]</p>
	<p>[дромоним]</p>
	<p>[дримонимы]</p>
	<p>[агоронимы]</p>



[потамонимы]



Вопрос 13

Балл: 3,00

Часть 2. Задание 2.3.

Установите соответствия между контурами стран и крупнейшими по длине реками на их территории.



	<input data-bbox="799 869 954 922" type="text"/>
	<input data-bbox="799 1198 954 1252" type="text"/>
	<input data-bbox="799 1547 954 1601" type="text"/>



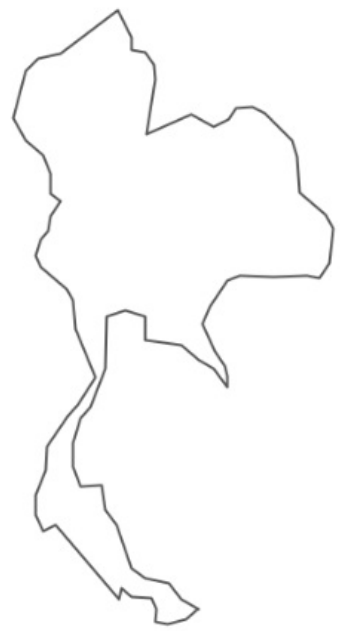
	<input data-bbox="799 98 959 152" type="text"/>
	<input data-bbox="799 430 959 483" type="text"/>

Верный ответ:

Часть 2. Задание 2.3.

Установите соответствия между контурами стран и крупнейшими по длине реками на их территории.

	<p>[Иртыш]</p>
	<p>[Конго]</p>

	<p>[Амазонка]</p>
	<p>[Висла]</p>
	<p>[Меконг]</p>

Вопрос 14

Балл: 3,00

Часть 2. Задание 2.4.

Установите соответствия между экологическими проблемами и территориями или акваториями, для которых они наиболее характерны.

Таяние ледников	
Кислотные осадки	
Обезлесение	
Разрушение озонового слоя	
Нефтяное загрязнение	

Верный ответ:

Часть 2. Задание 2.4.

Установите соответствия между экологическими проблемами и территориями или акваториями, для которых они наиболее характерны.

Таяние ледников	[Алтай]
Кислотные осадки	[Среднешведская низменность]
Обезлесение	[Амазония]
Разрушение озонового слоя	[остров Новая Зеландия]
Нефтяное загрязнение	[Бассейн р. Атабаска]

Вопрос 15

Балл: 3,00

Часть 2. Задание 2.5.

Установите соответствия между логотипами российских спортивных клубов и городами, где эти клубы были сформированы.







--



--



--



Верный ответ:

Часть 2. Задание 2.5.

Установите соответствия между логотипами российских спортивных клубов и городами, где эти клубы были сформированы.



	<p>[Хабаровск]</p>
	<p>[Иркутск]</p>
	<p>[Оренбург]</p>

Вопрос 16

Балл: 3,00

Часть 3. Задание 3.1.

География 9 класс ДЕМО

Напишите название субъекта РФ, определив его по перечисленным объектам:

остров Рудольфа, Приразломное месторождение, Котласский ЦБК, автомобильная трасса «Холмогоры».

Ответ:

Правильный ответ: Архангельская область

Вопрос 17

Балл: 3,00

Часть 3. Задание 3.2.

Определите полуостров на территории России по его описанию.

Геологическое строение полуострова представлено докембрийскими породами, осадочный чехол имеет незначительную площадь, а местами отсутствует. В северо-восточной части полуострова развиты многолетнемерзлые породы. Территория богата минеральными ресурсами, на полуострове расположено крупнейшее в мире месторождение апатитов. На севере полуостров омывается теплым течением, благодаря которому здесь расположен крупный незамерзающий порт нашей страны.

Ответ:

Правильный ответ: Кольский полуостров

Вопрос 18

Балл: 3,00

Часть 3. Задание 3.3.

Определите к какой языковой семье относится народ, изображённый на фотографии. Этот народ проживает на территории нескольких государств, в том числе и в России, русские первопоселенцы называли этот народ «лопари».



Ответ:

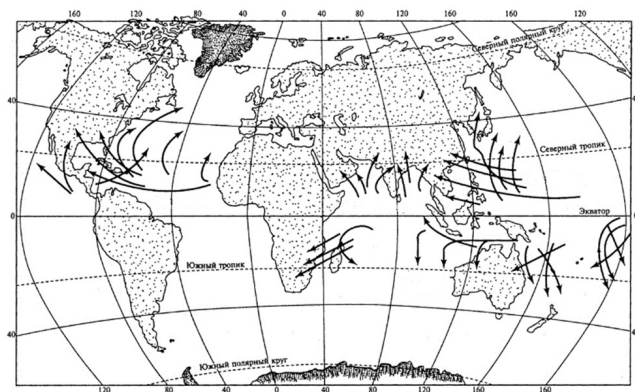
Правильный ответ: Уральская

Вопрос 19

Балл: 3,00

Часть 3. Задание 3.4.

Как называется изображенное на картосхеме природное явление в Китае?



Ответ:

Правильный ответ: тайфун

Вопрос 20

Балл: 3,00

Часть 3. Задание 3.5.

В горах Южной Сибири эти природные объекты носят название тебелеры, а в Якутии – булгунняхы. Как они называются в Северной Америке?

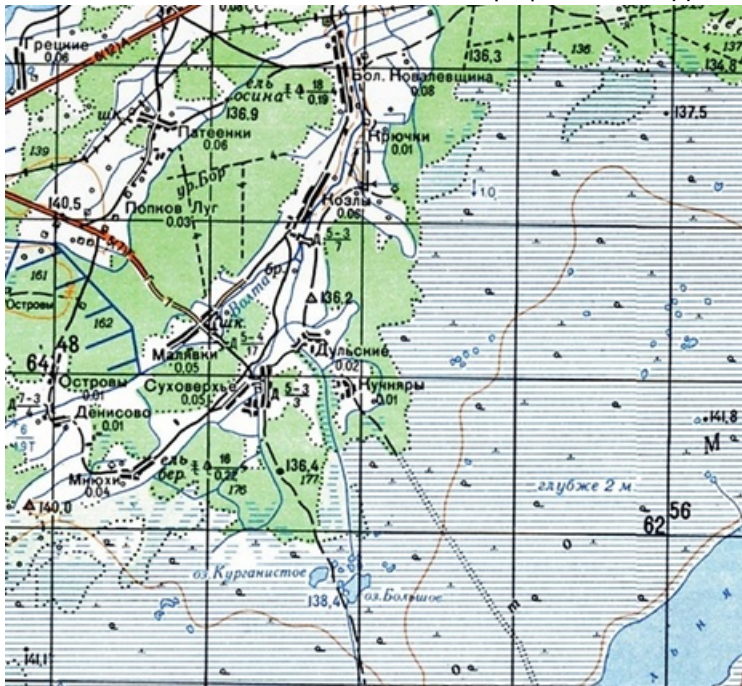
Ответ:

Правильный ответ: пинго

Вопрос **Инфо**

Часть 4. Задание 4.1.

Выполните задания, используя фрагмент топографической карты. [Открыть фрагмент карты в новом окне \(в полном размере\).](#)



Вопрос 21

Балл: 2,00

Часть 4. Задание 4.1. Вопрос 1.

Задание выполняется с использованием фрагмента топокарты.

Определите масштаб карты, если известно, что длина стороны квадрата на километровой сетке составляет на карте составляет 2 см. Ответ запишите в виде численного масштаба.

Ответ:

Правильный ответ: 1:100 000

Вопрос 22

Балл: 1,00

Часть 4. Задание 4.1. Вопрос 2.

Задание выполняется с использованием фрагмента топокарты.

По прямой расстояние от деревни Острова до грунтовой дороги составляет около 2 см. Какой длины (в см) будет это расстояние на карте масштаба 1:25000?

Ответ:

Правильный ответ: 4 см

Вопрос 23

Балл: 1,00

Часть 4. Задание 4.1. Вопрос 3.

Задание выполняется с использованием фрагмента топокарты.

Определите значение наиболее высокой точки в пределах фрагмента карты.

Ответ:

Правильный ответ: 141,8

Вопрос 24

Балл: 1,00

Часть 4. Задание 4.1. Вопрос 4.

Задание выполняется с использованием фрагмента топокарты.

Определите из какого материала сооружены мосты через р. Волта?

Ответ:

Правильный ответ: дерево

Вопрос 25

Балл: 1,00

Часть 4. Задание 4.1. Вопрос 5.

Задание выполняется с использованием фрагмента топокарты.

Какой населенный пункт расположен вблизи проходимого участка болота? Напишите его название.

Ответ:

Правильный ответ: Мнюхи

Вопрос 26

Балл: 1,00

Часть 4. Задание 4.1. Вопрос 6.

Задание выполняется с использованием фрагмента топокарты.

Определите название самого густонаселенного поселения в пределах карты.

Ответ:

Правильный ответ: Большая Ковалевщина


Вопрос 27

Балл: 1,00

Часть 4. Задание 4.1. Вопрос 7.

Задание выполняется с использованием фрагмента топокарты.

Напишите, что показывает приведенный ниже условный знак.



Ответ:

Правильный ответ: просека

Вопрос 28

Балл: 1,00

Часть 4. Задание 4.1. Вопрос 8.

Задание выполняется с использованием фрагмента топокарты.

Напишите, что показывает приведенный ниже условный знак.



Ответ:

Правильный ответ: канал

Вопрос 29

Балл: 1,00

Часть 4. Задание 4.1. Вопрос 9.

Задание выполняется с использованием фрагмента топокарты.

Напишите, что показывает приведенный ниже условный знак.



Ответ:

Правильный ответ: редколесье

Вопрос **Инфо**

Часть 4. Задание 4.2.

Пароход, отплывший из Сан-Франциско в понедельник 24 августа, прибыл в Пусан ровно через 18 суток.

Вопрос **30**

Балл: 3,00

Часть 4. Задание 4.2. Вопрос 1.

Какого числа, в какой месяц пароход прибыл в Пусан?

Ответ:

Правильный ответ: 18 сентября

Вопрос **31**

Балл: 2,00

Часть 4. Задание 4.2. Вопрос 2.

В какой день недели пароход прибыл в Пусан?
Запишите день недели в именительном падеже.

Ответ:

Правильный ответ: Суббота

Вопрос **32**

Балл: 3,00

Часть 4. Задание 4.2. Вопрос 3.

Выберите верные утверждения о Сан-Франциско и Пусане.

- А) Оба города расположены в субтропическом климатическом поясе, но в разных его областях.
- Б) Сан-Франциско расположен в зоне жестколистных вечнозеленых лесов и кустарников.

В) Пусан – первый по численности город КНДР.

Г) Пусан – один из крупнейших портов Индийского океана.

Д) В Сан-Франциско расположены такие знаменитые достопримечательности как Золотой мост и Чайна-Таун.

В ответе напишите последовательность букв (без пробелов и знаков препинания).

Ответ:

Правильный ответ: АБД

Вопрос 33

Балл: 2,00

Часть 4. Задание 4.2. Вопрос 4.

Представьте, что у Вас есть возможность совершить путешествие на таком пароходе. Визы каких государств Вам понадобятся, для осуществления посадки в городе отправления и высадки в городе прибытия?

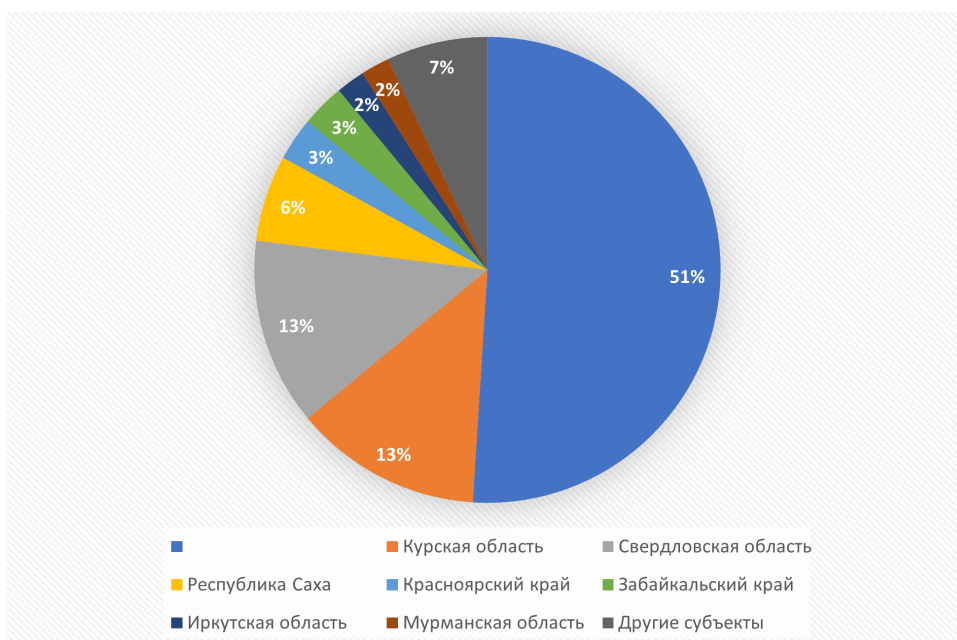
Ответ:

Правильный ответ: США, Республика Корея

Вопрос **Инфо**

Часть 4. Задание 4.3.

Рассмотрите круговую диаграмму, где показана доля запасов рудного полезного ископаемого по субъектам России и выполните задания.



Вопрос 34

Балл: 2,00

Часть 4. Задание 4.3. Вопрос 1.

Назовите полезное ископаемое.

Ответ:

Правильный ответ: железная руда

Вопрос 35

Балл: 1,00

Часть 4. Задание 4.3. Вопрос 2.

Назовите страну, являющуюся лидером по запасам данного полезного ископаемого.

Ответ:

Правильный ответ: Австралийский Союз

Вопрос 36

Балл: 1,00

Часть 4. Задание 4.3. Вопрос 3.

Назовите не подписанный на диаграмме субъект России, являющийся в нашей стране лидером по запасам данного полезного ископаемого.

Ответ:

Правильный ответ: Белгородская область

Вопрос 37

Балл: 1,00

Часть 4. Задание 4.3. Вопрос 4.

Назовите крупнейшее в России месторождение данного полезного ископаемого.

Ответ:

Правильный ответ: Курская магнитная аномалия

Вопрос 38

Балл: 1,00

Часть 4. Задание 4.3. Вопрос 5.

Рассчитайте ресурсообеспеченность этим полезным ископаемым стран А, Б, В.

Страна	Разведанные запасы полезного ископаемого, млн. т.	Добыча полезного ископаемого, млн. т. в год
А	72300	248
Б	75000	298
В	97800	310

Ответ запишите буквами без пробелов и знаков препинания, в порядке возрастания ресурсообеспеченности.

Ответ:

Правильный ответ: БАВ

Вопрос 39

Балл: 3,00

Часть 4. Задание 4.3. Вопрос 6.

Выберите названия трех минералов, которые содержат в себе руды этого полезного ископаемого.

- А. Алмаз;
- Б. Магнетит;
- В. Апатит;
- Г. Шпинель;
- Д. Гематит;
- Е. Лимонит.

Ответ запишите в виде сочетания букв без пробелов и знаков препинания.

Ответ:

Правильный ответ: БДЕ

Вопрос 40

Балл: 1,00

Часть 4. Задание 4.3. Вопрос 7.

Какие два основных продукта изготавливаются из этого полезного ископаемого?

Ответ:

Правильный ответ: сталь, чугун

Вопрос **Инфо****Часть 4. Задание 4.4.**

Внимательно прочитайте текст о государстве, которое находится в составе СНГ и выполните задания.

Это внутриконтинентальное государство, граничащее с пятью странами. Это государство одно из двух стран в мире, которое отделено территориями 2-х стран от прямого выхода к мировому океану. Самый западный регион страны является районом экологического бедствия в связи со снижением уровня и существенным сокращением площади крупного бессточного озера. Это происходит по причине забора воды для нужд сельского хозяйства из двух крупных рек, которые впадают в это озеро и протекают по территории данного государства. Страна имеет богатую ресурсную базу. Активно разрабатываются месторождения полиметаллов и углеводородов. По запасам и добыче одного из полезных ископаемых страна находится на 19-м и 11-м местах в мировом рейтинге. Столица государства, а также два города, являющиеся крупными туристскими центрами, имеют возраст свыше 2000 лет. Сельское хозяйство является важной статьей дохода государства: 20% ВВП страны. Сейчас, несмотря на некоторое уменьшение производства, страна находится на 5-м месте в мире по объемам выращивания сельскохозяйственной культуры, которая раньше была одним из символов рассматриваемого государства. Помимо титульного народа в населении страны 2,5 %, а в столице страны 20 %, составляет этнос, который был наибольшим по численности в государстве в состав которого входила рассматриваемая страна до 1991 года.

Вопрос 41

Балл: 1,00

Часть 4. Задание 4.4. Вопрос 1.

Для ответа на вопрос используйте текст задания.

Определите название страны.

Ответ:

Правильный ответ: Узбекистан

Вопрос 42

Балл: 1,00

Часть 4. Задание 4.4. Вопрос 2.

Для ответа на вопрос используйте текст задания.

Определите название второго государства в мире, которое отделено от мирового океана территориями 2-х государств.

Ответ:

Правильный ответ: Лихтенштейн

Вопрос 43

Балл: 1,00

Часть 4. Задание 4.4. Вопрос 3.

Для ответа на вопрос используйте текст задания.

Определите название озера.

Ответ:

Правильный ответ: Аральское море

Вопрос 44

Балл: 2,00

Часть 4. Задание 4.4. Вопрос 4.

Для ответа на вопрос используйте текст задания.

Определите название рек (напишите через запятую в алфавитном порядке);

Ответ:

Правильный ответ: Амударья, Сырдарья

Вопрос 45

Балл: 1,00

Часть 4. Задание 4.4. Вопрос 5.

Для ответа на вопрос используйте текст задания.

Назовите полезное ископаемое.

Ответ:

Правильный ответ: природный газ

Вопрос 46

Балл: 2,00

Часть 4. Задание 4.4. Вопрос 6.

Для ответа на вопрос используйте текст задания.

Назовите эти два города (напишите через запятую в алфавитном порядке)

Ответ:

Правильный ответ: Бухара, Самарканд

Вопрос 47

Балл: 1,00

Часть 4. Задание 4.4. Вопрос 7.

Для ответа на вопрос используйте текст задания.

Назовите техническую сельскохозяйственную культуру

Ответ:

Правильный ответ: хлопчатник

Вопрос 48

Балл: 1,00

Часть 4. Задание 4.4. Вопрос 8.

Для ответа на вопрос используйте текст задания.

Назовите национальность, о которой идет речь в тексте.

Ответ:

Правильный ответ: Русские

Вопрос **Инфо****Часть 4. Задание 4.5.**

Прочитайте текст. В вопросах к заданию напишите слова или словосочетания (в именительном падеже), которыми следует заменить пропуски в тексте (указаны числами). Эти слова или словосочетания могут быть именами собственными или понятиями.

(1) – единственный субъект России, полностью расположенный на островах. Считается, что впервые русские увидели эту территорию во время экспедиции 1640 года, которой руководил (2), – первый из европейцев, открывший (3) море. Активная экспансия территории началась уже в XIX веке, а свои современные границы (1) получила только в 1945 году, после победы СССР во Второй мировой войне. Несмотря на это, южные острова до сих пор оспаривает (4), с которой Россия имеет морскую границу. Главная особенность природных условий территории – это активный современный (5) на архипелаге, обусловленный тем, что здесь происходит (6) – явление, когда одна (7) погружается под другую. (5), а также (8) климат умеренного пояса создают уникальные для России ландшафты с особой флорой и фауной. (1) обладает не только богатейшими биологическими ресурсами моря, но и значительными запасами полезных ископаемых – в первую очередь, это (9) и другие топливные ресурсы. Важнейшим промышленным и научным центром региона является город (10).

Вопрос **49**

Балл: 1,00

Часть 4. Задание 4.5. Вопрос 1.

Напишите слова или словосочетания, которыми следует заменить пропуски в тексте под номером (1).

Ответ:

Правильный ответ: Сахалинская область

Вопрос **50**

Балл: 1,00

Часть 4. Задание 4.5. Вопрос 2.

Напишите слова или словосочетания, которыми следует заменить пропуски в тексте под номером (2).

Ответ:

Правильный ответ: Иван Юрьевич Москвитин

Вопрос 51

Балл: 1,00

Часть 4. Задание 4.5. Вопрос 3.

Напишите слова или словосочетания, которыми следует заменить пропуски в тексте под номером (3).

Ответ:

Правильный ответ: Охотское

Вопрос 52

Балл: 1,00

Часть 4. Задание 4.5. Вопрос 4.

Напишите слова или словосочетания, которыми следует заменить пропуски в тексте под номером (4).

Ответ:

Правильный ответ: Япония

Вопрос 53

Балл: 1,00

Часть 4. Задание 4.5. Вопрос 5.

Напишите слова или словосочетания, которыми следует заменить пропуски в тексте под номером (5).

Ответ:

Правильный ответ: вулканизм

Вопрос 54

Балл: 1,00

Часть 4. Задание 4.5. Вопрос 6.

Напишите слова или словосочетания, которыми следует заменить пропуски в тексте под

номером (6).

Ответ:

Правильный ответ: субдукция

Вопрос 55

Балл: 1,00

Часть 4. Задание 4.5. Вопрос 7.

Напишите слова или словосочетания, которыми следует заменить пропуски в тексте под номером (7).

Ответ:

Правильный ответ: литосферная плита

Вопрос 56

Балл: 1,00

Часть 4. Задание 4.5. Вопрос 8.

Напишите слова или словосочетания, которыми следует заменить пропуски в тексте под номером (8).

Ответ:

Правильный ответ: муссонный

Вопрос 57

Балл: 1,00

Часть 4. Задание 4.5. Вопрос 9.

Напишите слова или словосочетания, которыми следует заменить пропуски в тексте под номером (9).

Ответ:

Правильный ответ: природный газ

Вопрос **58**

Балл: 1,00

Часть 4. Задание 4.5. Вопрос 10.

Напишите слова или словосочетания, которыми следует заменить пропуски в тексте под номером (10).

Ответ:

Правильный ответ: Южно-Сахалинск