



**Высшая
проба**
ВСЕРОССИЙСКАЯ
ОЛИМПИАДА ШКОЛЬНИКОВ

ДЕМОНСТРАЦИОННЫЙ ВАРИАНТ ОТБОРОЧНОГО ЭТАПА

Всероссийской олимпиады школьников «Высшая проба»
по профилю «География» для 11 класса

2023/2024 г.



ВЫСШАЯ ШКОЛА ЭКОНОМИКИ
НАЦИОНАЛЬНЫЙ ИССЛЕДОВАТЕЛЬСКИЙ УНИВЕРСИТЕТ

Вопрос 1

Балл: 2,00

Часть 1. Задание 1.1.

Выберите из приведенного списка ученого (**А-Г**), который сформулировал закон географической зональности и укажите природный объект, который будет подчиняться этому закону:

Учёные: **А)** В.В. Докучаев; **Б)** А.Г. Исаченко; **В)** Н.А. Солнцев; **Г)** А. Гумбольдт.

Природные объекты: 1) морское течение; 2) почва; 3) щит; 4) горная вершина; 5) озёрная котловина.

В ответе напишите букву и цифру (без пробелов и знаков препинания).

Ответ:

Правильный ответ: A2

Вопрос 2

Балл: 2,00

Часть 1. Задание 1.2.

Городские часы какого из перечисленных городов (**А-Е**) будут показывать полдень, когда в других городах будет 13 часов, столицей какого государства (**1-6**) является этот город?

Города: **А)** Ханой; **Б)** Сингапур; **В)** Пекин; **Г)** Тайбэй; **Д)** Манила; **Е)** Бандар-Сери-Бегаван.

Государства: 1) Китай; 2) Вьетнам; 3) Бруней; 4) Лаос; 5) Филиппины; 6) Индонезия.

В ответе напишите букву и цифру (без пробелов и знаков препинания).

Ответ:

Правильный ответ: A2

Вопрос 3

Балл: 2,00

Часть 1. Задание 1.3.

Установите последовательность перечисленных событий в истории географических открытий, начиная с самого раннего.

- А)** Дж. Кук открыл восточное побережье Австралии;
Б) С.И. Дежнев открыл пролив между Азией и Америкой;
В) П.П. Семенов-Тянь-Шанский исследовал Тянь-Шань;
Г) Дж. Кабот достиг берегов Северной Америки у острова Ньюфаундленд.
В ответе укажите последовательность букв (без пробелов и знаков препинания).

Ответ:

Правильный ответ: ГБАВ

Вопрос 4

Балл: 2,00

Часть 1. Задание 1.4.

Расположите перечисленные государства по валовому внутреннему продукту (ВВП) на душу населения, начиная с наименьшего по данному показателю.

- А)** Швейцария; **Б)** Япония; **В)** Австралия; **Г)** Саудовская Аравия.

В ответе укажите последовательность букв (без пробелов и знаков препинания).

Ответ:

Правильный ответ: ГБВА

Вопрос 5

Балл: 2,00

Часть 1. Задание 1.5.

Укажите, какой из перечисленных городов является моногородом России и определите его хозяйственную специализацию?

Города: **А)** Антрацит; **Б)** Мурманск; **В)** Мончегорск; **Г)** Ярославль; **Д)** Челябинск; **Е)** Казань.

Хозяйственная специализация: 1) черная металлургия; 2) цветная металлургия; 3) угольная промышленность; 4) сельскохозяйственное машиностроение; 5) нефтепереработка.

В ответе напишите букву и цифру (без пробелов и знаков препинания).

Ответ:

Правильный ответ: В2

Вопрос 6

Балл: 2,00

Часть 1. Задание 1.6.

География 11 класс ДЕМО

Среди географических объектов (**А – Д**) один не соответствует представленной логической подборке. Определите этот объект и найдите верное объяснение (**1–5**) того, что данный объект является «лишним».

Географические объекты: **А)** р. Рейн; **Б)** р. Дунай; **В)** Женевское озеро; **Г)** Балтийское море; **Д)** п-ов Ютландия

Объяснения:

- 1) Полностью расположен на территории королевства;
- 2) Находится на территории нескольких государств Европы;
- 3) Расположен на территории двух федеративных стран;
- 4) Является пограничным между ФРГ и Францией;
- 5) Является пограничным между Францией и Швейцарией.

В ответе напишите букву и цифру (без пробелов и знаков препинания).

Ответ:

Правильный ответ: В5

Вопрос 7

Балл: 2,00

Часть 1. Задание 1.7.

Среди географических терминов (**А – Д**) один не соответствует представленной логической подборке. Определите этот термин и найдите верное объяснение (**1–5**) того, что данный термин является «лишним».

Термины: **А)** солифлюкция; **Б)** субдукция; **В)** гипергенез; **Г)** абразия; **Д)** дефляция.

Объяснения:

- 1) Термин не относится к науке геоморфология;
- 2) Этот термин относится к науке геология;
- 3) Вода является главной рельефообразующей силой в процессе, который носит данное название;
- 4) Данный термин относится к экзогенным процессам рельефообразования;
- 5) Данный термин относится к эндогенным процессам рельефообразования.

В ответе напишите букву и цифру (без пробелов и знаков препинания).

Ответ:

Правильный ответ: Б5

Вопрос 8

Балл: 2,00

Часть 1. Задание 1.8.

Расположите перечисленные столицы государств мира по мере их удаления от экватора.

А) Бразилиа; **Б)** Кампала; **В)** Асунсьон; **Г)** Джакарта; **Д)** Веллингтон

В ответе укажите последовательность букв (без пробелов и знаков препинания).

Ответ:

Правильный ответ: БГВАД

Вопрос 9

Балл: 2,00

Часть 1. Задание 1.9.

Установите верную последовательность по времени обретения независимости перечисленными государствами, начиная с самого раннего.

А) Восточный Тимор; **Б)** Бразилия; **В)** Канада; **Г)** Кот-д'Ивуар; **Д)** Лаос.

В ответе укажите последовательность букв (без пробелов и знаков препинания).

Ответ:

Правильный ответ: БВДГА

Вопрос 10

Балл: 2,00

Часть 1. Задание 1.10.

Найдите географическую ошибку (**А – Д**) в тексте туристской рекламы, посвящённой Краснодарскому краю и выберите вариант их исправления (**1 – 5**).

«Кубань – щедрый край, где хочется жить! Лазурные моря, солнечные берега!»

Эта древняя земля велика и щедра: широка степными просторами, согрета солнцем, одарена морским теплом. В 1792 году первые казаки высадились на Таманский полуостров, поставили первые хаты и возвели первый православный храм. И с тех самых пор Кубань, названная так по главной и самой широкой реке края, берущей начало с ледников известной горы Кавказа – Казбека, и впадающей в Азовское море, навсегда стала родиной кубанского казачества, форпостом южных границ России. Сегодня Краснодарский край – самая южная часть Российской Федерации с административным центром в Краснодаре. Берега региона омывают воды двух морей – Черного и Азовского. В регионе представлена самая широкая в России палитра отдыха и лечения, весь спектр активного отдыха – от дайвинга до альпинизма. Вся страна приезжает на Кубань покорять таинственные бездны и ледяные вершины. И туристический, гостиничный сервис, который получил значительное развитие благодаря Олимпиаде-2014, позволяет наслаждаться уникальной природой Краснодарского края не только в «высокий сезон», но и круглый год»

Ошибка:

- А)** На территории Краснодарского край нет ледников;
- Б)** Таманский полуостров расположен на территории Ростовской области;
- В)** Река Кубань впадает в Чёрное море.

Г) В Краснодарском крае не развит бальнеологический туризм;

Д) Река Кубань не берет начало Казбеке;

Исправление ошибки:

1) Главная река региона относится к бассейну Атлантического океана;

2) В Краснодарском крае развиты, в первую очередь, горнолыжный и пляжный виды туризма.

3) Зимой Кавказские горы покрыты снегами;

4) Территория края омывается Темрюкским заливом;

5) Кубань берет начало на ледниках Эльбруса;

В ответе напишите букву и цифру (без пробелов и знаков препинания).

Ответ:

Правильный ответ: Д5

Вопрос 11

Балл: 3,00

Часть 2. Задание 2.1.

Установите соответствия между парой исследователей и современным государством, территорию которого каждый из них посетил во время своих путешествий.

Ибн Баттута и Н. Пржевальский	<input type="text"/>
А. Тасман и Ж. Дюмон-Дервиль	<input type="text"/>
Г. Гудзон и Э. Рыжий	<input type="text"/>
Д. Ливингстон и Г.М. Стэнли	<input type="text"/>

Верный ответ:

Часть 2. Задание 2.1.

Установите соответствия между парой исследователей и современным государством, территорию которого каждый из них посетил во время своих путешествий.

Ибн Баттута и Н. Пржевальский	[Казахстан]
А. Тасман и Ж. Дюмон-Дервиль	[Папуа – Новая Гвинея]
Г. Гудзон и Э. Рыжий	[Исландия]
Д. Ливингстон и Г.М. Стэнли	[Танзания]






Вопрос 12

Балл: 3,00

Часть 2. Задание 2.2.

География 11 класс ДЕМО

Установите соответствия между географическими объектами, изображёнными на фотографиях, и видами характерных для них видами топонимов.


	<input type="text"/>
	<input type="text"/>
	<input type="text"/>
	<input type="text"/>
	<input type="text"/>

Верный ответ:

Часть 2. Задание 2.2.

Установите соответствия между географическими объектами, изображёнными на фотографиях, и видами характерных для них видами топонимов.

	[тель] <input type="text"/>
---	---------------------------------------

	[даг]
	[пуща]
	[лука]
	[белки]

Вопрос 13

Балл: 3,00

Часть 2. Задание 2.3.

Установите соответствие между контурами береговых линий морей, изображённых на
2024 Высшая проба - демоверсии

спутниковых снимках, и расположенных вдоль них государств.

	<input type="text"/>
	<input type="text"/>
	<input type="text"/>
	<input type="text"/>
	<input type="text"/>

Верный ответ:

Часть 2. Задание 2.3.

Установите соответствие между контурами береговых линий морей, изображённых на спутниковых снимках, и расположенных вдоль них государств.

	[Израиль]
	[Эстония]
	[Венесуэла]
	[Турция]
	[Китай]

Вопрос 14

Балл: 3,00

Часть 2. Задание 2.4.

Установите соответствия между экологическими проблемами и территориями или акваториями, для которых они наиболее характерны.

Таяние ледников	
Опустынивание	
Обезлесивание	
Истощение горизонтов подземных вод	
Нефтяное загрязнение	

Верный ответ:

Часть 2. Задание 2.4.

Установите соответствия между экологическими проблемами и территориями или акваториями, для которых они наиболее характерны.

Таяние ледников	[о. Шпицберген]
Опустынивание	[Черные Земли]
Обезлесивание	[о. Суматра]
Истощение горизонтов подземных вод	[Долина Мехико]
Нефтяное загрязнение	[Северное море]

Вопрос 15

Балл: 3,00

Часть 2. Задание 2.5.

Установите соответствия между логотипами европейских футбольных клубов и странами (историческими областями), где клубы выступают в национальных чемпионатах.



	<input type="text"/>
	<input type="text"/>
	<input type="text"/>
	<input type="text"/>

Верный ответ:

Часть 2. Задание 2.5.

Установите соответствия между логотипами европейских футбольных клубов и странами (историческими областями), где клубы выступают в национальных чемпионатах.

	<p>[Италия]</p>
	<p>[Испания]</p>
	<p>[Франция]</p>
	<p>[Шотландия]</p>
	<p>[Португалия]</p>

Вопрос 16

Балл: 3,00

Часть 3. Задание 3.1.

Назовите государство, определив его по перечисленным географическим объектам:

2024 Высшая проба - демоверсии

Ответ:

Правильный ответ: Кения

Вопрос 17

Балл: 3,00

Часть 3. Задание 3.2.

Определите возвышенность по текстовому описанию.

Возвышенность расположена в пределах древней платформы, протягивается с северо-востока на юго-запад на 800 км. Наиболее возвышенная часть представлена «горами» тектонического происхождения, в честь которых была названа марка отечественного легкового автомобиля. Топоним описываемой возвышенности был образован от названия крупнейшей в этой части света реки, в правобережье которой она расположена.

Ответ:

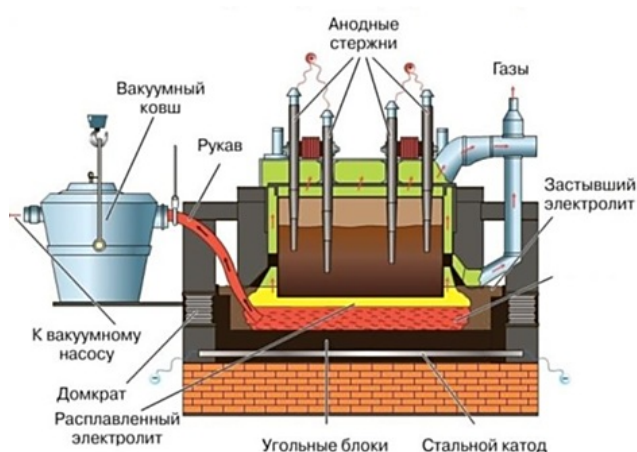
Правильный ответ: Приволжская возвышенность

Вопрос 18

Балл: 3,00

Часть 3. Задание 3.3.

Определите отрасль хозяйства по изображению, на котором представлена технологическая схема получения одного из продуктов этой отрасли.



Ответ:

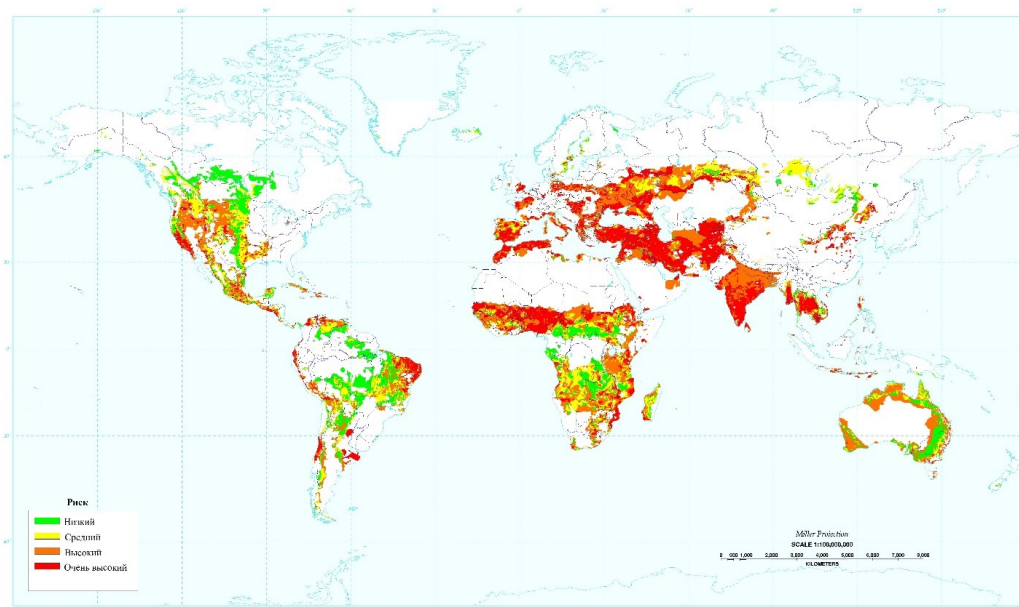
Правильный ответ: алюминиевая промышленность

Вопрос 19

Балл: 3,00

Часть 3. Задание 3.4.

Какая экологическая проблема изображена на представленной карте?



Ответ:

Правильный ответ: опустынивание

Вопрос 20

Балл: 3,00

Часть 3. Задание 3.5.

Какой географический объект народы романской языковой группы называют «лаго», финны – «ярви», а народы Средней Азии – «куль»?

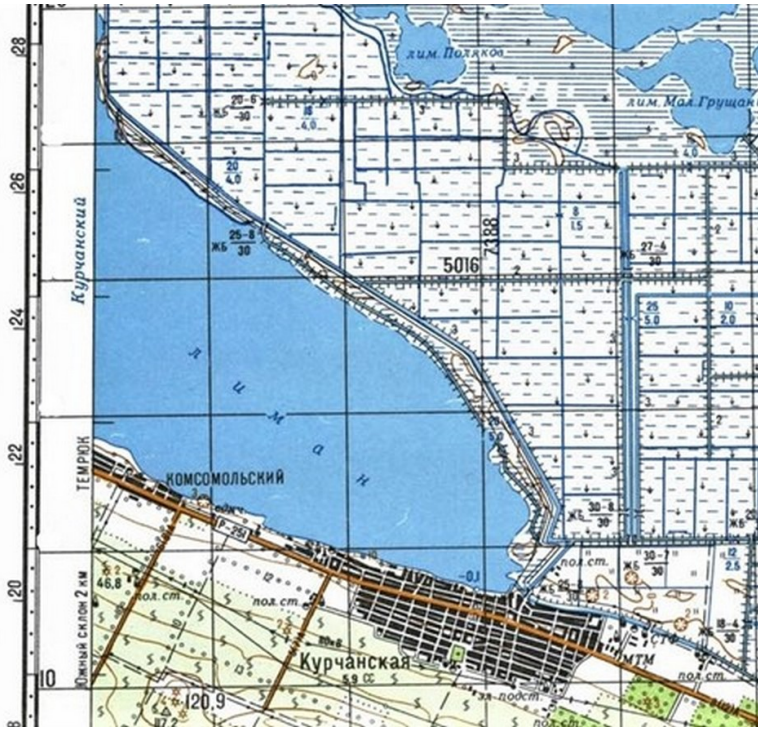
Ответ:

Правильный ответ: озеро

Вопрос **Инфо**

Часть 4. Задание 4.1.

Выполните задания, используя фрагмент топографической карты. [Открыть фрагмент карты в полном размере.](#)



Вопрос 21

Балл: 2,00

Часть 4. Задание 4.1. Вопрос 1.

Задание выполняется с использованием фрагмента топокарты.

Определите масштаб карты, если известно, что длина стороны квадрата на километровой сетке составляет на карте составляет 2 см. Ответ запишите в виде численного масштаба.

Ответ:

Правильный ответ: 1:100 000

Вопрос 22

Балл: 1,00

Часть 4. Задание 4.1. Вопрос 2.

Задание выполняется с использованием фрагмента топокарты.

Территория какого субъекта изображена на фрагменте топографической карты?

Ответ:

Правильный ответ: Краснодарский край

Вопрос 23

Балл: 1,00

Часть 4. Задание 4.1. Вопрос 3.

Задание выполняется с использованием фрагмента топокарты.

Какие две сельскохозяйственные культуры имеют наибольшее распространение в пределах данного картографического фрагмента?

Ответ:

Правильный ответ: Виноград, рис

Вопрос 24

Балл: 1,00

Часть 4. Задание 4.1. Вопрос 4.

Задание выполняется с использованием фрагмента топокарты.

Назовите главную реку, в бассейне которой находится данная территория.

Ответ:

Правильный ответ: Кубань

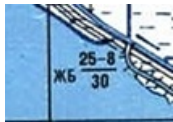
Вопрос 25

Балл: 1,00

Часть 4. Задание 4.1. Вопрос 5.

Задание выполняется с использованием фрагмента топокарты.

Напишите, какой объект обозначен на данном условном знаке.



Ответ:

Правильный ответ: мост через автодорогу

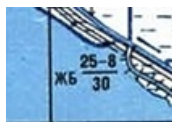
Вопрос 26

Балл: 1,00

Часть 4. Задание 4.1. Вопрос 6.

Задание выполняется с использованием фрагмента топокарты.

Напишите, что означает сочетание букв "ЖБ" в данном условном знаке.



Ответ:

Правильный ответ: железобетонный

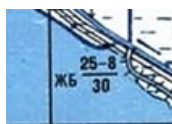
Вопрос 27

Балл: 1,00

Часть 4. Задание 4.1. Вопрос 7.

Задание выполняется с использованием фрагмента топокарты.

Напишите, что означает первое число "25" в верхней строке над чертой в данном условном знаке.



Ответ:

Правильный ответ: длина моста

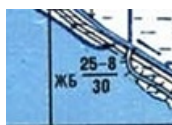
Вопрос 28

Балл: 1,00

Часть 4. Задание 4.1. Вопрос 8.

Задание выполняется с использованием фрагмента топокарты.

Напишите, что означает число "8" в верхней строке над чертой в данном условном знаке.



Ответ:

Правильный ответ: ширина проезжей части

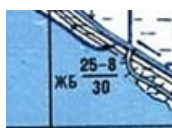
Вопрос **29**

Балл: 1,00

Часть 4. Задание 4.1. Вопрос 8.

Задание выполняется с использованием фрагмента топокарты.

Напишите, что означает число "30" в нижней строке под чертой в данном условном знаке.



Ответ:

Правильный ответ: грузоподъемность моста

Вопрос **Инфо**

Часть 4. Задание 4.2.

Определите длину дуги в $0,5^\circ$ по параллели, проходящую через столицу Финляндии, на карте масштабом 1:500000.

Вопрос **30**

Балл: 3,00

Часть 4. Задание 4.2. Вопрос 1.

Укажите длину дуги в $0,5^\circ$ в км;

Ответ:

Правильный ответ: 27,75

Вопрос **31**

Балл: 2,00

Часть 4. Задание 4.2. Вопрос 2.

Укажите длину дуги $0,5^\circ$ параллели на карте (ответ укажите в сантиметрах, округлив до десятых).

Ответ:

Правильный ответ: 5,6 см

Вопрос **32**

Балл: 1,00

Часть 4. Задание 4.2. Вопрос 3.

Напишите самоназвание Финляндии.

Ответ:

Правильный ответ: Суоми

Вопрос **33**

Балл: 2,00

Часть 4. Задание 4.2. Вопрос 4.

Какие языки являются официальными в столице Финляндии?

Ответ:

Правильный ответ: финский, шведский

Вопрос **34**

Балл: 2,00

Часть 4. Задание 4.2. Вопрос 5.

Крупнейшая зарубежная община какой страны, бывшей в составе СССР и не имеющей с Финляндией сухопутной границы, проживает в столице Финляндии?

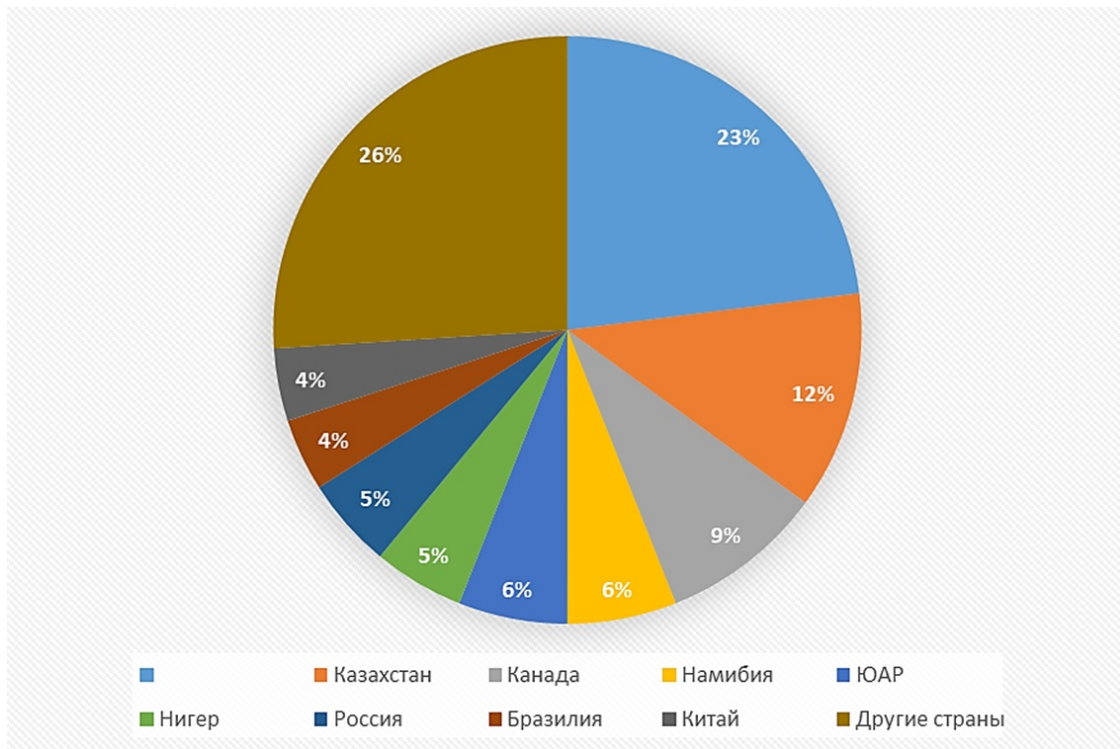
Ответ:

Правильный ответ: эстонцы

Вопрос **Инфо**

Часть 4. Задание 4.3.

Рассмотрите круговую диаграмму, которая отображает запасы рудного полезного ископаемого по странам мира и выполните задания.



Вопрос **35**

Балл: 2,00

Часть 4. Задание 4.3. Вопрос 1.

Назовите полезное ископаемое.

Ответ:

Правильный ответ: урановая руда

Вопрос **36**

Балл: 1,00

Часть 4. Задание 4.3. Вопрос 2.

Назовите не подписанную на диаграмме страну, являющуюся лидером по запасам полезного ископаемого.

Ответ:

Правильный ответ: Австралия

Вопрос 37

Балл: 1,00

Часть 4. Задание 4.3. Вопрос 3.

Назовите страну, являющуюся лидером по добыче полезного ископаемого.

Ответ:

Правильный ответ: Казахстан

Вопрос 38

Балл: 1,00

Часть 4. Задание 4.3. Вопрос 4.

Назовите субъект России, являющийся лидером по запасам данного полезного ископаемого.

Ответ:

Правильный ответ: Республика Саха

Вопрос 39

Балл: 1,00

Часть 4. Задание 4.3. Вопрос 5.

Какое топливо изготавливают из данного полезного ископаемого?

Ответ:

Правильный ответ: ядерное

Вопрос 40

Балл: 3,00

Часть 4. Задание 4.3. Вопрос 7.

Назовите три действующие электростанции России, работающие на этом топливе, название которых начинается на букву "К".

Ответ:

Правильный ответ: Калининская АЭС, Кольская АЭС, Курская АЭС

Вопрос **41**

Балл: 1,00

Часть 4. Задание 4.3. Вопрос 7.

Назовите академика, по инициативе которого была создана первая электростанция такого типа.

Ответ:

Правильный ответ: И. В. Курчатов

Вопрос **Инфо**

Часть 4. Задание 4.4.

Определите государство по описанию и выполните задания.

Эта внутриконтинентальная страна граничит с двумя государствами. На юге и юго-востоке страны расположена северо-восточная часть крупнейшей пустыни материка. На территории государства расположено несколько бессточных озер, наиболее крупная группа которых лежит в котловине на северо-западе страны и называется «Котловина Больших озер». Крупнейшая река, протекающая по территории страны, имеет трансграничный характер, она впадает в озеро тектонического происхождения. Столица государства официально признана самым холодным столичным городом в мире, в ней проживает свыше трети населения страны и производится более половины промышленной продукции. В стране находится самая высокая конная статуя в мире, имеющая высоту более 40 метров. Большинство верующих в стране исповедуют одну из трех крупных мировых религий, которая распространена в трех административно-территориальных единицах соседнего федеративного государства.

Вопрос **42**

Балл: 1,00

Часть 4. Задание 4.4. Вопрос 1.

Для ответа на вопрос используйте текст задания.

Определите название государства, о котором идёт речь в тексте?

Ответ:

Правильный ответ: Монголия

Вопрос **43**

Балл: 1,00

Часть 4. Задание 4.4. Вопрос 2.

Для ответа на вопрос используйте текст задания.

Определите название пустыни, о которой идет речь в тексте.

Ответ:

Правильный ответ: Гоби

Вопрос 44

Балл: 1,00

Часть 4. Задание 4.4. Вопрос 3.

Для ответа на вопрос используйте текст задания.

Определите озеро в составе группы «Больших озер», являющееся объектом всемирного природного наследия ЮНЕСКО.

Ответ:

Правильный ответ: Убсу-Нур

Вопрос 45

Балл: 1,00

Часть 4. Задание 4.4. Вопрос 4.

Для ответа на вопрос используйте текст задания.

Определите название реки, о которой идет речь в тексте.

Ответ:

Правильный ответ: река Селенга

Вопрос 46

Балл: 1,00

Часть 4. Задание 4.4. Вопрос 5.

Для ответа на вопрос используйте текст задания.

Определите название озера тектонического происхождения, о котором идет речь в тексте.

Ответ:

Правильный ответ: озеро Байкал

Вопрос 47

Балл: 1,00

Часть 4. Задание 4.4. Вопрос 6.

Для ответа на вопрос используйте текст задания.

Назовите название столицы государства, о котором идет речь в тексте.

Ответ:

Правильный ответ: Улан-Батор

Вопрос 48

Балл: 1,00

Часть 4. Задание 4.4. Вопрос 7.

Для ответа на вопрос используйте текст задания.

Определите имя человека, которому посвящена статуя, о которой идет речь в тексте.

Ответ:

Правильный ответ: Чингисхан

Вопрос 49

Балл: 1,00

Часть 4. Задание 4.4. Вопрос 8.

Для ответа на вопрос используйте текст задания.

Назовите название религии, о которой идет речь в тексте.

Ответ:

Правильный ответ: буддизм

Вопрос **50**

Балл: 2,00

Часть 4. Задание 4.4. Вопрос 9.

Для ответа на вопрос используйте текст задания.

Определите названия трех административно-территориальных образований о которых идет речь в тексте.

Ответ запишите по алфавиту, через запятую.

Ответ:

Правильный ответ: Бурятия, Калмыкия, Тува

Вопрос **Инфо****Часть 4. Задание 4.5.**

Прочитайте текст. В вопросах к заданию напишите слова или словосочетания (в именительном падеже), аббревиатуры, которыми следует заменить пропуски в тексте (указаны числами).

(1) – вечнозеленые леса, произрастающие в тропическом и реже в умеренном термических поясах и являющиеся интразональными сообществами. (1) произрастают в полосе побережья, расположенной между уровнем самого высокого прилива и самого низкого отлива, которая называется (2). (1) распространены на пологих участках побережья, защищенных от волн коралловыми (3) и островами. Одним из главных приспособлений деревьев, произрастающих в зоне (2), являются ходульные (4), позволяющие растениям произрастать в условиях затопления во время приливов. Распространение (1) в умеренном поясе обусловлено теплыми (5), что связано с зависимостью (1) от температурных условий – их ареал ограничен зимней среднемесячной изотермой воды +20⁰ С. Южной границей ареала (1) является побережье развитого островного государства – (6), расположенного в умеренном и субтропическом климатических поясах. Считается, что (1) задерживают загрязняющие вещества, ослабляют эрозионные процессы в прибрежной зоне, являются экосистемами с повышенным биоразнообразием, а также могут выступать в качестве защиты прибрежной зоны от (7). По мнению некоторых ученых вырубка (1) в государстве (8) усугубила последствия (7), произошедшего в 2004 году. В результате (7), спровоцированного землетрясением магнитудой 9,3, погибло свыше 230000 человек. (1) относятся к категории водно-болотных угодий по (9) конвенции. Одной из самых известных особо охраняемых природных территорий, защищающих (1), является национальный парк Сундарбан – крупнейший сохранившийся участок (1) на Земле, находящийся преимущественно в пределах государства (10), на территории которого расположена крупнейшая речная дельта в мире.

Вопрос 51

Балл: 1,00

Часть 4. Задание 4.5. Вопрос 1.

Напишите слова или словосочетания, которыми следует заменить пропуски в тексте под номером (1).

Ответ:

Правильный ответ: мангры

Вопрос 52

Балл: 1,00

Часть 4. Задание 4.5. Вопрос 2.

Напишите слова или словосочетания, которыми следует заменить пропуски в тексте под номером (2).

Ответ:

Правильный ответ: литораль

Вопрос 53

Балл: 1,00

Часть 4. Задание 4.5. Вопрос 3.

Напишите слова или словосочетания, которыми следует заменить пропуски в тексте под номером (3).

Ответ:

Правильный ответ: рифы

Вопрос 54

Балл: 1,00

Часть 4. Задание 4.5. Вопрос 4.

Напишите слова или словосочетания, которыми следует заменить пропуски в тексте под номером (4).

Ответ:

Правильный ответ: корни

Вопрос 55

Балл: 1,00

Часть 4. Задание 4.5. Вопрос 5.

Напишите слова или словосочетания, которыми следует заменить пропуски в тексте под номером (5).

Ответ:

Правильный ответ: океанические течения

Вопрос 56

Балл: 1,00

Часть 4. Задание 4.5. Вопрос 6.

Напишите слова или словосочетания, которыми следует заменить пропуски в тексте под номером (6).

Ответ:

Правильный ответ: Новая Зеландия

Вопрос 57

Балл: 1,00

Часть 4. Задание 4.5. Вопрос 7.

Напишите слова или словосочетания, которыми следует заменить пропуски в тексте под номером (7).

Ответ:

Правильный ответ: цунами

Вопрос **58**

Балл: 1,00

Часть 4. Задание 4.5. Вопрос 8.

Напишите слова или словосочетания, которыми следует заменить пропуски в тексте под номером (8).

Ответ:

Правильный ответ: Индонезия

Вопрос **59**

Балл: 1,00

Часть 4. Задание 4.5. Вопрос 9.

Напишите слова или словосочетания, которыми следует заменить пропуски в тексте под номером (9).

Ответ:

Правильный ответ: Рамсарская

Вопрос **60**

Балл: 1,00

Часть 4. Задание 4.5. Вопрос 10.

Напишите слова или словосочетания, которыми следует заменить пропуски в тексте под номером (10).

Ответ:

Правильный ответ: Бангладеш