



Высшая
проба

ВСЕРОССИЙСКАЯ
ОЛИМПИАДА ШКОЛЬНИКОВ

ДЕМОНСТРАЦИОННЫЙ ВАРИАНТ ОТБОРОЧНОГО ЭТАПА

Всероссийской олимпиады школьников «Высшая проба»
по профилю «История мировых цивилизаций» для 9 класса

2024/2025 уч. г.



ВЫСШАЯ ШКОЛА ЭКОНОМИКИ
НАЦИОНАЛЬНЫЙ ИССЛЕДОВАТЕЛЬСКИЙ УНИВЕРСИТЕТ



Вопрос **Инфо**

Осознанно подходите к выполнению заданий.

В некоторых заданиях за выбор неправильных вариантов ответов предусмотрены штрафы.

Вопрос **1**

Балл: 4




Какие боги египетского пантеона являются персонажами мифа об Осирисе?

- 1. Сохмет
- 2. Исида
- 3. Нейт
- 4. Хор
- 5. Сет

Правильные ответы: Исида, Хор, Сет

Вопрос 2

Балл: 4



Какие произведения египетской литературы созданы на тему пребывания в далеких странах?

- 1. «Сказка о потерпевшем кораблекрушение»
- 2. «Рассказ Синухета»
- 3. «Сказка об обреченном царевиче»
- 4. «Гимн Нилу»
- 5. «Пророчества Неферти»

Правильные ответы: «Рассказ Синухета», «Сказка о потерпевшем кораблекрушение», «Сказка об обреченном царевиче»

Вопрос 3

Балл: 4



Перечислите византийских императоров, проводивших политику иконоборчества:

-
- 1.
Лев III Исавр
-
- 2.
Константин VII Багрянородный
-
- 3.
Константин Копроним
-
- 4.
Анастасий II
-
- 5.
Лев IV Хазар

Правильные ответы: Лев III Исавр, Константин Копроним, Лев IV Хазар

Вопрос 4

Балл: 4



Какие из перечисленных ниже императоров относятся к династии Юлиев-Клавдиев?

-
- 1.
Марк Аврелий
-
- 2.
Клавдий
-
- 3.
Отон
-
- 4.
Нерон
-
- 5.
Траян

Правильные ответы: Клавдий, Нерон

Вопрос 5

Балл: 4



Выберите события, относящиеся к периоду правления Гая Октавиана Августа

- 1. гибель Цицерона
- 2. войны с германцами
- 3. установление принципата
- 4. гонения на христиан
- 5. принятие Закона о супружеских изменах

Правильные ответы: войны с германцами, установление принципата, принятие Закона о супружеских изменах

Вопрос 6

Балл: 4



Кого из перечисленных ниже деятелей традиционно относят к отцам-основателям США?

-
- 1. Томас Джефферсон
-
- 2. Александр Гамильтон
-
- 3. Чарльз Таунсенд
-
- 4. Джеймс Монро
-
- 5. Джон Адамс

Правильные ответы: Джон Адамс, Александр Гамильтон, Томас Джефферсон

Вопрос 7

Балл: 4



В каких сражениях войска американских повстанцев одержали победы над британскими войсками ?

-
- 1. Битва при Геттисберге
-
- 2. Осада Саванны
-
- 3. Сражение при Лексингтоне
-
- 4. Битва за Атланту
-
- 5. Сражение при Саратоге

Правильные ответы: Сражение при Лексингтоне, Сражение при Саратоге

Вопрос 8

Балл: 4



Какие территории получили США по мирному договору с Мексикой 1848 г.?

-
- 1. Луизиана
-
- 2. Невада
-
- 3. Калифорния
-
- 4. Флорида
-
- 5. Колорадо

Правильные ответы: Калифорния, Невада, Колорадо

Вопрос 9

Балл: 4



Какие из перечисленных ниже штатов отложились от Союза и образовали Конфедеративные штаты Америки в 1861 г.

- 1. Небраска
- 2. Мичиган
- 3. Джорджия
- 4. Теннесси
- 5. Техас

Правильные ответы: Джорджия, Техас, Теннесси

Вопрос 10

Балл: 4



Какими колониальными владениями располагала Португалия в период между двумя мировыми войнами?



1.

Восточный Тимор



2.

Бразилия



3.

Сьерра-Леоне



4.

Кабо-Верде



5.

Занзибар

Правильные ответы: Кабо-Верде, Восточный Тимор

Вопрос 11

Балл: 6

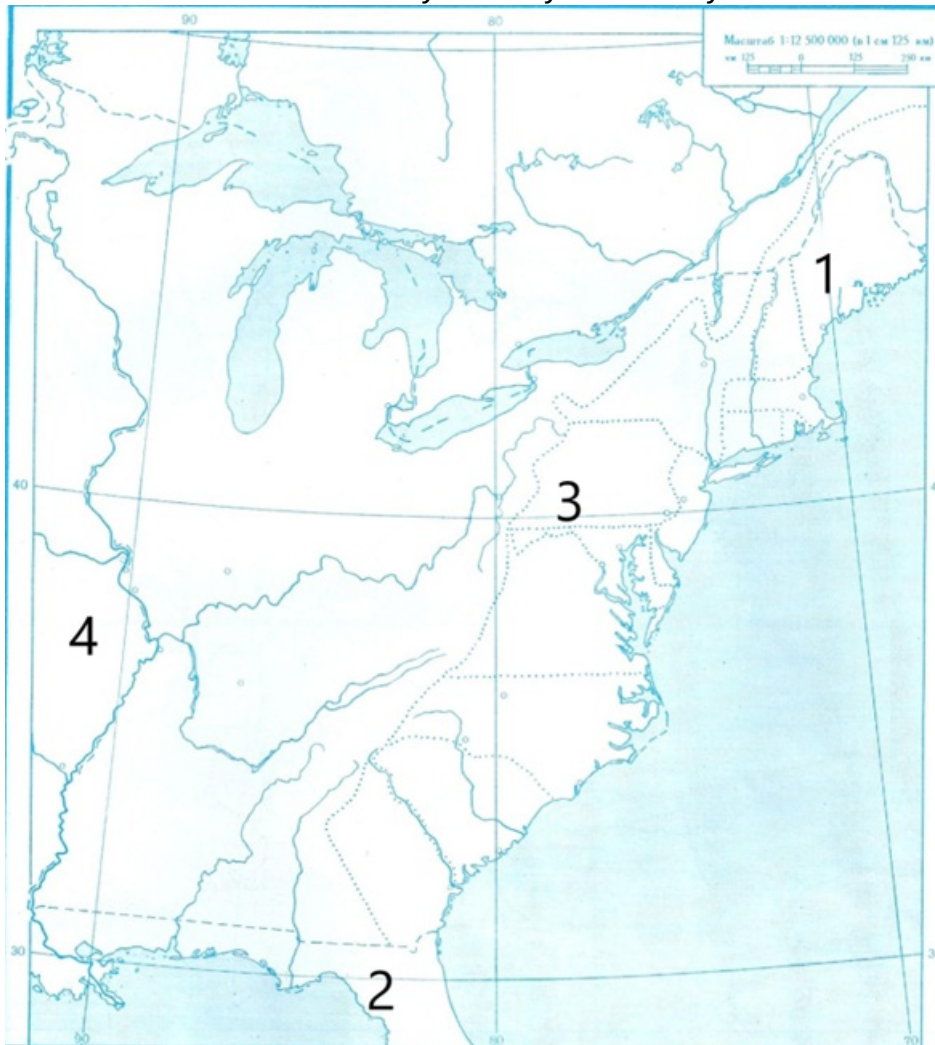
На карте вы видите территорию США на момент завершения Войны за независимость. Цифрами на карте обозначены штаты и приграничные территории. Соотнесите цифры с названиями этих штатов и территорий:



- 1
- 2
- 3
- 4

Верный ответ:

На карте вы видите территорию США на момент завершения Войны за независимость. Цифрами на карте обозначены штаты и приграничные территории. Соотнесите цифры с названиями этих штатов и территорий:



- 1 [Массачусетс]
- 2 [Флорида]
- 3 [Пенсильвания]
- 4 [Луизиана]

Вопрос 12

Балл: 6

Сопоставьте изображение и деятеля, с которым оно связано:

1.



2.



3.



4.



Верный ответ:

2025-vyssshaya-proba-demoversii

Сопоставьте изображение и деятеля, с которым оно связано:

1. [Ян Гус]



2. [св. Патрик]



3. [св. Доминик]



4. [папа римский Григорий VII]



Соотнесите имена константинопольских патриархов и архиепископов с теми событиями церковной и светской истории Византии, которые происходили в тот период, когда они занимали свой престол:

«Аскольдово крещение» Руси

Выработка догмата о святой Троице

Восстание Ника

Послание папе римскому с осуждением иконопочитания

Верный ответ:

Соотнесите имена константинопольских патриархов и архиепископов с теми событиями церковной и светской истории Византии, которые происходили в тот период, когда они занимали свой престол:

«Аскольдово крещение» Руси

[Фотий I]

Выработка догмата о святой Троице

[Григорий I Богослов]

Восстание Ника

[Епифаний]

Послание папе римскому с осуждением иконопочитания [Анастасий]

Вопрос 14

Балл: 6

Сопоставьте события и местности, где они произошли :

Лиссабон



Флоренция



Саратога



Флоренция



[казнь Савонаролы]

Саратога



[Капитуляция британских войск]

Сантьяго-де- Куба



[Капитуляция испанских войск]

Вопрос 15

Балл: 9

□

Перед вами отрывок из «Церковной истории» христианского писателя Евсевия Памфила. Назовите одного из двух императоров, принявших эдикт. Ответ напишите в именительном падеже (Например, *Октавиан Август*).

С давних пор, считая, что не следует стеснять свободу богопочитания, но, напротив, надо предоставлять уму и воле каждого заниматься Божественными предметами по собственному выбору, мы издали повеление как всем другим, так и христианам хранить свою веру и свое богопочитание. Когда же я,

Август, и я, Лициний Август, благополучно прибыли в Медиолан и обсуждали все, что относится к общей пользе и благополучию, то среди прочего, что сочли мы во многих отношениях полезным для всех, решили прежде всего издать постановление, которое поддерживало бы страх Божий и благоговение, т. е. даровать и христианам, и всем свободно, по своему собственному желанию выбирать веру, дабы небесное Божество, как бы Его ни называли, относилось благосклонно и к нам, и к подданным нашим. Итак, руководствуясь здравым и правым смыслом, мы объявляем следующее наше решение: никому не запрещается свободно избирать и соблюдать христианскую веру ...

Правильный ответ: Константин I

Вопрос 16

Балл: 9



Перед Вами портрет одного из римских императоров династии Антонинов. Впишите имя императора в именительном падеже (например, Октавиан Август).

Последний из «пяти хороших императоров», запомнился как «философ на троне». Он был последователем Эпиктета, представителя философской школы стоицизма. Этот император уделял большое внимание судопроизводству и упорядочению римской правовой системы. Воевал с Парфией на Востоке и с германскими племенами на Западе.

Правильный ответ: Марк Аврелий

Вопрос 17

Балл: 9

Укажите имя и фамилию американского изобретателя шотландского происхождения, который совершил революцию в системе дистанционной связи и основал компанию, до сих пор остающуюся одним из мировых лидеров в этой области.

Имя и фамилию запишите в именительном падеже (например, *Александр Дюма*).



Ответ:

Правильный ответ: Александр Белл

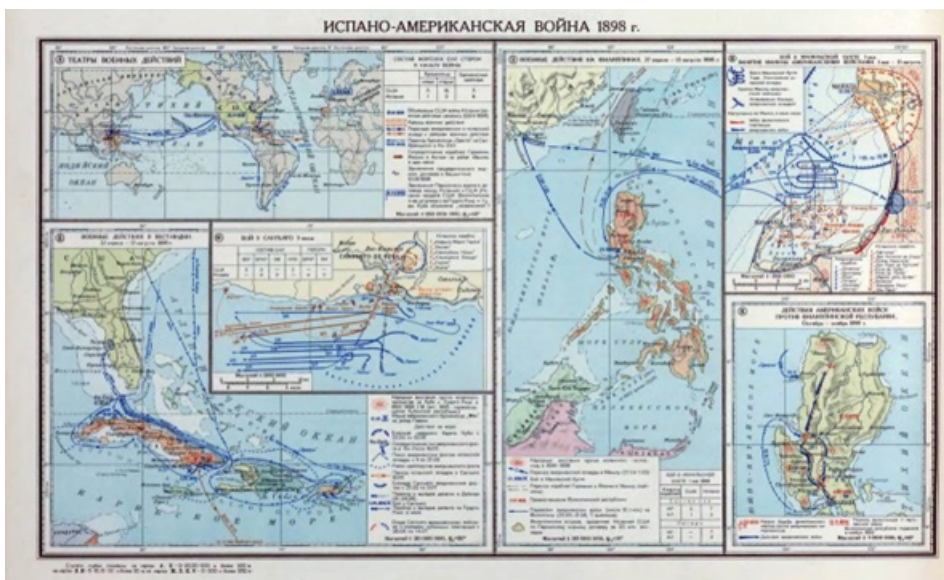
Вопрос 18

Балл: 9

Прочитайте отрывок из исторического труда и укажите название территории.

Испано-американская война привела к тому, что Соединенные Штаты напрямую аннексировали ряд территорий. , соседний с Кубой остров в Карибском море, принадлежал Испании и был захвачен Вооруженными силами США. Гавайские острова, расположенные почти посреди Тихого океана, уже подверглись нашествию американских миссионеров и владельцев ананасовых плантаций; американские чиновники называли их «спелой грушей, готовой к тому, чтобы ее сорвали». Острова были аннексированы в соответствии с совместной резолюцией обеих палат Конгресса, принятой в июле 1898 г.

Впишите название острова, захваченного США в именительном падеже (например, *Мартиника*).



Правильный ответ: Пуэрто-Рико