



## ДЕМОНСТРАЦИОННЫЙ ВАРИАНТ ОТБОРОЧНОГО ЭТАПА

Всероссийской олимпиады школьников «Высшая проба»  
по профилю «История мировых цивилизаций» для 11 класса

2024/2025 уч. г.



**ВЫСШАЯ ШКОЛА ЭКОНОМИКИ**  
НАЦИОНАЛЬНЫЙ ИССЛЕДОВАТЕЛЬСКИЙ УНИВЕРСИТЕТ

Вопрос **Инфо**

**Осознанно подходите к выполнению заданий.**

**В некоторых заданиях за выбор неправильных вариантов ответов предусмотрены штрафы.**

Вопрос **1**

Балл: 3



После принятия доктрины Монро в 1823 году и до Первой мировой войны внешняя политика Соединённых Штатов Америки была обращена, в первую очередь, на территории Северной и Южной Америки. С какими государствами США вступали в вооружённые конфликты на территориях американского континента до Первой мировой войны?

- 1. Португалия
- 2. Британская империя
- 3. Российская империя
- 4. Мексика
- 5. Испания

Правильные ответы: Британская империя, Мексика, Испания

**Вопрос 2**

Балл: 3




Перед Вами фотография дуче (вождя) Италии Бенито Муссолини. Выберите правильные характеристики его правления:

- 1. В Италии проводились гонения на Католическую церковь
- 2. Бенито Муссолини был свергнут в ходе государственного переворота
- 3. Бенито Муссолини был одним из участников Мюнхенского соглашения
- 4. Итальянские войска смогли захватить Эфиопию в 1936 г.
- 5. Италия находилась в военном союзе с Великобританией и Францией против Германии

Правильные ответы: Итальянские войска смогли захватить Эфиопию в 1936 г., Бенито Муссолини был свергнут в ходе государственного переворота, Бенито Муссолини был одним из участников Мюнхенского соглашения

**Вопрос 3**

Балл: 3




Укажите события американской истории, которые относятся ко времени президентства Авраама Линкольна:

- 1. Завершение Реконструкции Юга
- 2. Закон о гомстедах
- 3. Битва при Геттисберге
- 4. Принятие закона Канзас-Небраска
- 5. Покупка Аляски у Российской империи

Правильные ответы: Закон о гомстедах, Битва при Геттисберге

**Вопрос 4**

Балл: 3



Кто из деятелей древнего Египта является выдающимися архитекторами?

- 
- 1.  
Аменхотеп, сын Хапу
- 
- 2.  
Имхотеп
- 
- 3.  
Джедефхор
- 
- 4.  
Манефон
- 
- 5.  
Хемиун

Правильные ответы: Имхотеп, Хемиун, Аменхотеп, сын Хапу

**Вопрос 5**

Балл: 3



Кто из нижеперечисленных античных авторов упоминают события из римской истории, связанные с сюжетом, запечатлённым на картине Никола Пуссена «Смерть Германика»?

- 
- 1.  
Дион Кассий
- 
- 2.  
Тит Ливий
- 
- 3.  
Гай Светоний Транквилл
- 
- 4.  
Плутарх
- 
- 5.  
Полибий

Правильные ответы: Гай Светоний Транквилл, Дион Кассий

**Вопрос 6**

Балл: 3



Какие из нижеперечисленных важных событий в истории католической церкви связаны с понтификатом Климента V?

- 
- 1. Начало Авиньонского пленения пап
- 
- 2. Разгром ордена тамплиеров
- 
- 3. Тридентский собор
- 
- 4. Заключение Вормского конкордата
- 
- 5. Основание ордена бенедиктинцев

Правильные ответы: Начало Авиньонского пленения пап, Разгром ордена тамплиеров

**Вопрос 7**

Балл: 3



На картине Амеде Форестье изображено подписание Гентского договора, положившего конец так называемой «Второй войне за независимость». Какие нижеперечисленные утверждения являются последствиями победы Соединённых Штатов Америки в этом конфликте, напрямую повлиявшими на их дальнейшую историю:

## Istoriya-mirovyh-civilizaciy-11-klass

- 
- 1.  
Подписание Декларации независимости США
- 
- 2.  
Провозглашение доктрины Монро
- 
- 3.  
Принятие 13 поправки к Конституции США
- 
- 4.  
Создание Северо-Западной индейской конфедерации
- 
- 5.  
Присоединение к США Орегона

Правильные ответы: Провозглашение доктрины Монро, Присоединение к США Орегона

### Вопрос 8

Балл: 3

Какие из нижеперечисленных событий произошли в период Первой Португальской Республики?

- 
- 1.  
Основание Лиги наций
- 
- 2.  
Подписание Версальского мирного договора
- 
- 3.  
Приход к власти в Германии национал-социалистов
- 
- 4.  
Заключение договора в Рапалло
- 
- 5.  
Государственный переворот в Греции под руководством Иоанниса Метаксаса

Правильные ответы: Основание Лиги наций, Подписание Версальского мирного договора, Заключение договора в Рапалло

### Вопрос 9

Балл: 3





Какие из перечисленных ниже политических деятелей занимали должность премьер-министра Греции в межвоенный период?

- 1. Арис Велухиотис
- 2. Виктор Дусманис
- 3. Элефтериос Венизелос
- 4. Иоаннис Метаксас
- 5. Панделис Пулиопулос

Правильные ответы: Элефтериос Венизелос, Иоаннис Метаксас

**Вопрос 10**

Балл: 3



Какие произведения египетской литературы рассматривают проблему ответственности царя за свои деяния?



1.

«Речения Ипувера»



2.

«Фараон Хуфу и волшебники»



3.

«Поучения Мерикара»



4.

«Сказка об обреченном царевиче»



5.

«Взятие Яффы»

Правильные ответы: «Поучения Мерикара», «Речения Ипувера», «Фараон Хуфу и волшебники»

**Вопрос 11**

Баллов: 6 из 7

Расположите события в хронологической последовательности

Христианизация Ирландии святым Патриком

Начало христианизации англо-саксов

Начало христианизации Болгарии

Крещение Хлодвига

Христианизация Исландии

Grading type: Relative to correct position

Grade details: 16 / 20 = 80%

Here are the scores for each item in this response:

1. 4 / 4 = 100%

2. 3 / 4 = 75%

3. 3 / 4 = 75%

4. 2 / 4 = 50%

5. 4 / 4 = 100%

Для этих элементов правильный порядок выглядит так:

1. Христианизация Ирландии святым Патриком

2. Крещение Хлодвига

3. Начало христианизации англо-саксов

4. Начало христианизации Болгарии

5. Христианизация Исландии

**Вопрос 12**

Расположите события в хронологической последовательности:

Равеннский декрет об учреждении инквизиции в Арагоне

Формирование монашеского ордена бенедиктинцев

Начало войн против еретиков-альбигойцев

Казнь Яна Гуса

Призыв к крестовым походам на соборе в Клермоне

Основание Тевтонского ордена

Grading type: Relative to correct position

Grade details: 16 / 30 = 53%

Here are the scores for each item in this response:

1. 1 / 5 = 20%
2. 4 / 5 = 80%
3. 4 / 5 = 80%
4. 3 / 5 = 60%
5. 2 / 5 = 40%
6. 2 / 5 = 40%

Для этих элементов правильный порядок выглядит так:

1. Формирование монашеского ордена бенедиктинцев
2. Призыв к крестовым походам на соборе в Клермоне
3. Основание Тевтонского ордена
4. Начало войн против еретиков-альбигойцев
5. Равеннский декрет об учреждении инквизиции в Арагоне
6. Казнь Яна Гуса

### Вопрос 13

Балл: 4

Соотнесите памятник древнеегипетской архитектуры и имя царя, при котором он был построен:

Ступенчатая пирамида в Саккара

Великая пирамида в Гизе

Храм Аммона в Луксоре

Заупокойный храм в Дель-эль-Бахри

Верный ответ:

Соотнесите памятник древнеегипетской архитектуры и имя царя, при котором он был построен:


Ступенчатая пирамида в Саккара [Джосер]

Великая пирамида в Гизе [Хуфу]


Вопрос 14

Балл: 4

Американские изобретатели и учёные внесли конца XVIII- начала XX вв. внесли огромный вклад в развитие мировой культуры. Установите соответствия между известными изобретениями и открытиями и их авторами:




Роберт Фултон



Томас Эдисон



Братья Уилбер и Орвилл Райт



Джозеф Пристли




Верный ответ:

Американские изобретатели и учёные внесли конца XVIII- начала XX вв. внесли огромный вклад в развитие мировой культуры. Установите соответствия между известными изобретениями и открытиями и их авторами:



Роберт Фултон

[создание одного из первых пароходов]



Томас Эдисон


[создание фонографа]



[конструирование и постройка первого самолёта]



Братья Уилбер и Орвилл Райт



Джозеф Пристли

[открытие фотосинтеза]

**Вопрос 15**

Балл: 4

Установите соответствия между событиями Гражданской войны в Испании и их датами:

- Взятие франкистами Мадрида
- Битва при Бадахосе
- Бомбардировка Герники
- Битва на Эбро

Верный ответ:

Установите соответствия между событиями Гражданской войны в Испании и их датами:

- Взятие франкистами Мадрида [1939]
- Битва при Бадахосе [1936]
- Бомбардировка Герники [1937]
- Битва на Эбро [1938]


Вопрос 16

Балл: 4

Установите соответствия между нижеперечисленными знаменитыми памятниками архитектуры Древнего Рима и императором, с именем которого связано их сооружение:



Пантеон



«Золотой дом»



Пирамида Гая Цестия



Дворец в Сплите

Верный ответ:


Установите соответствия между нижеперечисленными знаменитыми памятниками архитектуры Древнего Рима и императором, с именем которого связано их сооружение:





[Адриан]

Пантеон



[Нерон]

«Золотой дом»



[Октавиан Август]

Пирамида Гая Цестия



[Диоклетиан]

Дворец в Сплите

Вопрос 17

Балл: 4

Соотнесите территории, обозначенный на контурной карте литерами, с названиями колоний и государств, владевших ими в 1920-1930-е гг.:





А

Б

В

Г

Д

Верный ответ:

Соотнесите территории, обозначенный на контурной карте литерами, с названиями колоний и государств, владевших ими в 1920-1930-е гг.:



- А [Португальская Западная Африка (Ангола)]
- Б [Португальская Восточная Африка (Мозамбик)]
- В [Итальянское Сомали]
- Г [Испанская Сахара]
- Д [Итальянская Ливия]

**Вопрос 18**

Балл: 5



Геродот в своей «Истории» так описывает одно из священных животных египтян:

«Этот 1)

, или Эпаф, должен происходить от коровы, которая после отела уже никогда не сможет иметь другого теленка. По словам египтян, на эту корову с неба нисходит луч света и от него-то она рождает 1) \*\*\*\*.

## Istoriya-mirovyh-civilizaciy-11-klass

А теленок этот, называемый 1) \*\*\*\*, имеет вот какие признаки: он черный, на лбу у него белый четырехугольник, на спине изображение орла, на хвосте двойные волосы, а под языком – изображение жука. . В течение всего времени, а это два месяца, жрецы соблюдали строгий пост. Когда же им улыбалась удача и поиски заканчивались, нового 1)\*\*\*\* торжественно везли по реке в 2)

, в храм 3)

, а жители выходили на берег ликовали и приветствовали священного быка».

Впишите в пропуски название (1) священного животного, название (2) города, куда привозили это животное, и (3) имя бога, которому был посвящен храм. Все названия записывайте в именительном падеже, например: *скарабей, Вавилон, Иштар*.

Правильный ответ: Апис, Мемфис, Птах.

### Вопрос 19

Балл: 5



Светоний в жизнеописании этого римского императора так описывает его деяния:

«Таков был 1)

и такова была его слава, когда он вернулся в Рим и отпраздновал триумф над иудеями. После этого он восемь раз был консулом, не считая прежнего, был и цензором; и во все время своего правления ни о чем он так не заботился, как о том, чтобы вернуть дрогнувшему и поколебленному государству устойчивость, а потом и блеск... Столица была обезображена давними пожарами и развалинами. Он позволил всякому желающему занимать и застраивать пустые участки, если этого не делали владельцы. Приступив к восстановлению 2)

, он первый своими руками начал расчищать обломки и выносить их на собственной спине. Предпринял он и новые постройки: храм Мира близ форума, храм божественного Клавдия на Целийском холме, начатый еще Агриппиной, но почти до основания разрушенный 3)


, и, наконец, амфитеатр посреди города, задуманный, как он узнал, еще Августом».

Впишите в пропуски (1) имя императора, о котором пишет Светоний, (2) название главного римского храма и (3) имя императора, разрушившего храм божественного Клавдия. Все имена и названия запишите в именительном падеже, например: *Диоклетиан, Парфенон, Траян*.

Правильный ответ: Веспасиан, Капитолий, Нерон.

Вопрос 20

Балл: 5



Знаменитый американский писатель 1)

посвятил событиям Гражданской войны в Испании роман 2)

. Это произведение отличает яркость описания картин крушения республики, осмысление уроков истории, приведшей к такому финалу – установлению диктатуры 3)

.  
Впишите в пропуски (1) имя и фамилию писателя, (2) название его романа (без кавычек) и (3) имя и фамилию государственного деятеля. Все ответы записывайте в именительном падеже, например: *Томас Манн, Доктор Фаустус, Георг Михаэлис.*

Правильный ответ: Эрнест Хемингуэй, По ком звонит колокол, Франсиско Франко.

Вопрос 21

Балл: 5



Перед Вами картина Эмануэля Лойце «Переправа армии Джорджа Вашингтона через реку Делавэр», посвящённая одному из эпизодов войны за независимость США. Заполните пропуски в утверждениях ниже:

4 июля 1776 года была провозглашена независимость североамериканских колоний от Британской империи. Тринадцать колоний, ставшие Соединёнными Штатами Америки, при поддержке Испании и 1)

противостояли британской армии. После тяжелейших поражений при 2)

и Йорктауне Великобритания была вынуждена заключить мир с американскими революционерами. 3 сентября 1783 года при посредничестве Франции был заключён 3)

мирный договор, по итогам которого Британская империя признала Соединённые Штаты независимым государством.

Впишите в пропуски 1) название страны, поддержавшей США в войне против Британской империи, 2) название места, где британская армия потерпела одно из крупнейших поражений в войне, и (3) город, в котором был заключен мирный договор, завершивший войну. Все названия указывайте в именительном падеже, например: *Россия, Цорндорф, Берлин*.

Правильный ответ: Франция, Саратогге, Париж.

**Вопрос 22**

Балл: 5

Прочитайте отрывок из исторического труда и заполните пропуски :

В октябре 1922 г., после массового митинга фашистов в 1)

, на котором Бенито Муссолини впервые открыто заявил о намерении идти походом на Рим, с его согласия «квадрумвиры» приняли решение организовать поход на столицу с целью захвата власти. Исполняющий обязанности председателя Совета министров Луиджи Факта, преданный сторонник 2)

, предложил королю 3)

подписать декрет о введении чрезвычайного положения, однако тот после некоторых колебаний отказался его утвердить. Муссолини, ожидавший в Милане, как будут развиваться события, и

## Istoriya-mirovyh-civilizaciy-11-klass

готовый, в случае если дела примут неприятный оборот, укрыться в Швейцарии, немедленно прибыл в спальном вагоне в Рим, где получил от короля мандат на формирование нового правительства...

Впишите в пропуски (1) название города, (2) имя и фамилию государственного деятеля Италии, занимавшего пять раз пост премьер-министра, и (3) имя короля и его порядковый номер (при необходимости). Все названия и имена указывайте в именительном падеже, например: *Берлин, Отто фон Бисмарк, Вильгельм II*.

Правильный ответ: Неаполь, Джованни Джолитти, Виктор Эммануил I

### Вопрос 23

Балл: 5

Интересное описание Александрии и её храмов даёт в IV книге «Истории» Публий Корнелий Тацит:

«... Святилище, размерами своими соответствующее величию города, было выстроено в месте, называемом Ракотис, где стоял старинный маленький храм, посвященный 1)

(бог изобилия, плодородия, подземного царства и загробной жизни, ставший верховным богом Птолемеевского Египта и покровителем Александрии) и 2)

(одна из значимых богинь Древнего Египта, мать Хора). Именно так рассказывают чаще всего о происхождении храма и о том, каким образом попала сюда статуя бога. Я знаю, что, по мнению некоторых, статуя была привезена из сирийского города Селевкии в правление Птолемея... Есть также люди, считающие, что привез ее тот самый Птолемей, о котором шла речь выше, но не из Синопы, а из Мемфиса, твердыни древнего Египта, пользовавшейся некогда громкой славой. Бога этого одни считают Эскулапом, так как он излечивает болезни, другие 3)

(бог возрождения, царь загробного мира, судья душ усопших) — древнейшим божеством Египта...».

Впишите имена богов в именительном падеже, например: *Зевс, Артемида, Аид*.

Правильный ответ: Серапис, Исида, Осирис.

### Вопрос 24

Балл: 5

Прочтите текст и заполните пропуски:

Одним из официальных архитекторов Италии времен Бенито Муссолини был 1)

. В частности, он руководил работами по возведению Римского университета (1932-1935), а также комплекса Международной выставки 1942 года в Риме. Ее открытие планировалось к 20-летию юбилею прихода Муссолини в власти в результате массового движения, вошедшего в историю под названием 2)

. 1)\*\*\*\* был одним из лидеров неоклассического течения в итальянском искусстве 1920–1930-х гг., получившем название 3)



Впишите (1) имя и фамилию архитектора, (2) название события (без кавычек!) и (3) название архитектурного стиля в именительном падеже, например: *Антонио Гауди, Крестовый поход детей, кватроченто*.

Правильный ответ: Марчелло Пьячентини, Поход на Рим, новеченто.